

o anglo resolve



a prova da 1ª fase da UNESP junho 2012

Faz parte do ciclo de aprendizagem no Anglo: aula dada, aula estudada; prova, diagnóstico.

Este trabalho, pioneiro, é mais que um gabarito: a resolução que segue cada questão reproduzida da prova constitui uma oportunidade para se aprender a matéria, perceber um aspecto diferente, rever um detalhe. Como uma aula.

É útil para o estudante analisar outros modos de resolver as questões que acertou e descobrir por que em alguns casos errou — por simples desatenção, desconhecimento do tema, dificuldade de relacionar os conhecimentos necessários para chegar à resposta. Em resumo, deve ser usado sem moderação.

A Universidade Estadual Paulista — Unesp — tem unidades instaladas em várias cidades do estado de São Paulo: Araçatuba, Araçatuba, Assis, Bauru, Botucatu, Dracena, Franca, Guaratinguetá, Ilha Solteira, Itapeva, Jaboticabal, Marília, Ourinhos, Presidente Prudente, Registro, Rio Claro, Rosana, São José dos Campos, São José do Rio Preto, São Paulo, São Vicente, Sorocaba e Tupã.

Seu vestibular, em duas fases, é realizado pela Fundação Vunesp. A prova de 1ª fase, eliminatória, é constituída de 90 testes de múltipla escolha, com a seguinte distribuição:

- 30 questões de Linguagens e Códigos (Língua Portuguesa e Literatura, Língua Inglesa, Educação Física e Artes).
- 30 questões de Ciências da Natureza (Física, Química e Biologia), Matemática.
- 30 questões de Ciências Humanas (História, Geografia e Filosofia).

Esta prova, que dura 4,5 horas, vale 100 pontos, e a nota é obtida pelo cálculo abaixo:

$$\frac{n^{\circ} \text{ de respostas certas} \times 100}{90}$$

Para a 2ª fase poderão ser convocados até dez candidatos por vaga, dependendo do número de candidatos em cada curso.

Ocorrendo empate na última classificação, em cada curso, serão convocados para a 2ª fase todos os candidatos nessa condição.

É desclassificado o candidato que tenha nota igual ou inferior a 20 na prova de 1ª fase.

Instrução: As questões de números 1 a 5 tomam por base uma passagem do livro *A vírgula*, do filólogo Celso Pedro Luft (1921-1995).

A vírgula no vestibular de português

"Mas, esta, não é suficiente."
"Porque, as respostas, não satisfazem."
"E por isso, surgem as guerras."
"E muitas vezes, ele não se adapta ao meio em que vive."
"Pois, o homem é um ser social."
"Muitos porém, se esquecem que..."
"A sociedade deve pois, lutar pela justiça social."

Que é que você acha de quem virgula assim?

Você vai dizer que não aprendeu nada de pontuação quem semeia assim as vírgulas. Nem poderá dizer outra coisa.

Ou não lhe ensinaram, ou ensinaram e ele não aprendeu. O certo é que ele se formou no curso secundário. Lepidamente, sem maiores dificuldades. Mas a vírgula é um "objeto não identificado", para ele.

Para ele? Para eles. Para muitos eles, uma legião. Amanhã serão doutores, e a vírgula continuará sendo um objeto não identificado. Sim, porque os três ou quatro mil menos fracos ultrapassam o vestibulo... Com vírgula ou sem vírgula. Que a vírgula, convenhamos, até que é um obstáculo meio frágil, um risquinho. Objeto não identificado? Não, objeto invisível a olho nu. Pode passar despercebido até a muito olho de lince de examinador...

— A vírgula, ora, direis, a vírgula...

Mas é justamente essa miúda coisa, esse risquinho, que maior informação nos dá sobre as qualidades do ensino da língua escrita. Sobre o ensino do cerne mesmo da língua: a frase, sua estrutura, composição e decomposição.

Da virgulação é que se pode depreender a consciência, o grau de consciência que tem, quem escreve, do pensamento e de sua expressão, do ir e vir do raciocínio, das hesitações, das interpenetrações de ideias, das seqüências e interdependências, e, linguisticamente, da frase e sua constituição.

As vírgulas erradas, ao contrário, retratam a confusão mental, a indisciplina do espírito, o mau domínio das ideias e do fraseado.

Na minha carreira de professor, fiz muitos testes de pontuação. E sempre ficou clara a relação entre a maneira de pontuar e o grau de cociente intelectual.

Conclusão que tirei: os exercícios de pontuação constituem um excelente treino para desenvolver a capacidade de raciocinar e construir frases lógicas e equilibradas.

Quem ensina ou estuda a sintaxe — que é a teoria da frase (ou o "tratado da construção", como diziam os gramáticos antigos) — forçosamente acaba na importância das pausas, cortes, incidências, nexos, etc., elementos que vão se espelhar na pontuação, quando a mensagem é escrita.

Pontuar bem é ter visão clara da estrutura do pensamento e da frase. Pontuar bem é governar as rédeas da frase. Pontuar bem é ter ordem, no pensar e na expressão.

▶ Questão 1

Sim, porque os três ou quatro mil menos fracos ultrapassam o vestibulo...

Nesta passagem, Celso Pedro Luft sugere, com algum deboche, que:

- A) somente três ou quatro mil pessoas empregam adequadamente a vírgula.
- B) quem passa nos exames vestibulares são os candidatos menos fracos.
- C) se a pontuação fosse um edifício, poucas pessoas ultrapassariam seu vestibulo.
- D) até mesmo grandes escritores não sabem virgular.
- E) quem sabe usar a vírgula é bem-sucedido na vida.

Resolução

As orações anteriores “O certo é que ele se formou no curso secundário” e “Amanhã serão doutores” permitem a inferência de que o autor empregou “vestíbulo” como metáfora para vestibular. A inversão da perspectiva contida na ideia de que “os menos fracos” passaram no vestibular, em vez de “os mais bem preparados”, é um dos responsáveis pelo deboche referido no enunciado da questão.

Resposta: B

Questão 2

As frases abaixo correspondem a tentativas de corrigir o erro de virgulação apontado por Celso Pedro Luft na série de exemplos que apresenta.

- I. “Porque as respostas não satisfazem.”
- II. “E, muitas vezes, ele não se adapta ao meio em que vive.”
- III. “Pois o homem é, um ser social.”
- IV. “A sociedade deve, pois, lutar pela justiça social.”

As frases em que o problema de virgulação foi resolvido adequadamente estão contidas apenas em:

- | | | |
|-------------|-----------------|------------------|
| A) I e II. | C) I, II e III. | E) II, III e IV. |
| B) I e III. | D) I, II e IV. | |

Resolução

Na frase III, a vírgula está separando o predicativo do sujeito (um ser social) do verbo de ligação (é), funções sintáticas que, por serem naturalmente ligadas, não aceitam entre si qualquer sinal de pausa.

Resposta: D

Questão 3

As vírgulas **erradas**, ao contrário, retratam a **confusão** mental, a **indisciplina** do espírito, o **mau** domínio das ideias e do fraseado.

As quatro palavras destacadas nesta frase, se substituídas, na ordem adequada, pelas palavras da relação abaixo, produzem outra frase, de sentido oposto:

- I. disciplina.
- II. organização.
- III. bom.
- IV. corretas.

Aponte a alternativa que indica a ordem em que se deve fazer a substituição:

- | | | |
|--------------------|--------------------|--------------------|
| A) I, II, III, IV. | C) IV, II, I, III. | E) IV, I, III, II. |
| B) II, III, IV, I. | D) III, I, II, IV. | |

Resolução

Basta que se relacionem as palavras originais do texto com seus antônimos presentes nas alternativas: erradas/corretas; confusão/organização; indisciplina/disciplina; mau/bom.

Resposta: C

Questão 4

Amanhã serão doutores, e a vírgula continuará sendo um objeto não identificado.

Com base nesta previsão, o autor acredita que:

- A) com a internet, futuramente a vírgula se tornará desnecessária e desconhecida.
- B) todos os doutores esquecem o que aprenderam sobre a vírgula.
- C) quanto à sintaxe, não se pode dizer se a vírgula é objeto direto ou indireto.
- D) no futuro, os doutores precisarão consultar ufos para aprender a usar a vírgula.
- E) mesmo depois de formadas, muitas pessoas não saberão usar a vírgula.

Resolução

A oração em questão se insere num conceito de crítica ao meio que seleciona os candidatos ao ensino superior, por ele permitir que pleiteantes que não sabem usar a vírgula sejam aprovados. O emprego de “doutor” nela, portanto, é uma hipérbole para se referir de forma jocosa aos que se graduam no ensino superior, não apenas para os que fizeram doutorado.

Resposta: E

Questão 5

Ou não **lhe** ensinaram, ou ensinaram e **ele** não aprendeu. O certo é que **ele** se formou no curso secundário.

As palavras colocadas em negrito, nesta passagem,

I. são pronomes pessoais.

II. são pronomes pessoais do caso reto.

III. apresentam no contexto o mesmo referente.

IV. pertencem à terceira pessoa do singular.

As afirmações corretas estão contidas apenas em:

A) I e II.

B) II e III.

C) I, II e III.

D) I, III e IV.

E) II, III e IV.

Resolução

Apenas o pronome “ele” é do caso reto nas duas vezes em que ocorre no texto; o pronome “lhe” é oblíquo átono.

Resposta: D

Instrução: As questões de números 6 a 10 tomam por base um poema de Tomás Antônio Gonzaga (1744-1810).

18

Não vês aquele velho respeitável,
que à muleta encostado,
apenas mal se move e mal se arrasta?
Oh! quanto estrago não lhe fez o tempo,
o tempo arrebatado,
que o mesmo bronze gasta!

Enrugaram-se as faces e perderam
seus olhos a viveza:
voltou-se o seu cabelo em branca neve;
já lhe treme a cabeça, a mão, o queixo,
nem tem uma beleza
das belezas que teve.

Assim também serei, minha Marília,
daqui a poucos anos,
que o ímpio tempo para todos corre.
Os dentes cairão e os meus cabelos.
Ah! sentirei os danos,
que evita só quem morre.

Mas sempre passarei uma velhice
muito menos penosa.
Não trarei a muleta carregada,
descansarei o já vergado corpo
na tua mão piedosa,
na tua mão nevada.

As frias tardes, em que negra nuvem
os chuvaeiros não lance,
irei contigo ao prado florescente:
aqui me buscarás um sítio ameno,
onde os membros descanse,
e ao brando sol me aquente.

Apenas me sentar, então, movendo
os olhos por aquela
vistosa parte, que ficar fronteira,
apontando direi: — Ali falamos,
ali, ó minha bela,
te vi a vez primeira.

Verterão os meus olhos duas fontes,
nascidas de alegria;
farão teus olhos ternos outro tanto;
então darei, Marília, frios beijos
na mão formosa e pia,
que me limpar o pranto.

Assim irá, Marília, docemente
meu corpo suportando
do tempo desumano a dura guerra.
Contente morrerei, por ser Marília
quem, sentida, chorando
meus baços olhos cerra.

(Tomás Antônio Gonzaga. Marília de Dirceu e mais poesias.
Lisboa: Livraria Sá da Costa Editora, 1982.)

▶ Questão 6

A leitura atenta deste poema do livro *Marília de Dirceu* revela que o eu lírico

- A) sente total desânimo perante a existência e os sentimentos.
- B) aceita com resignação a velhice e a morte amenizadas pelo amor.
- C) está em crise existencial e não acredita na durabilidade do amor.
- D) protesta ao Criador pela precariedade da existência humana.
- E) não aceita de nenhum modo o envelhecimento e prefere morrer ainda jovem.

Resolução

O poeta entende a passagem do tempo e retrata, ao longo do poema, os efeitos que a velhice lhe causará; porém sente que a senilidade lhe será menos dolorosa em companhia de Marília, como afirma na quarta estrofe.

Resposta: B

▶ Questão 7

Assinale a alternativa que indica a ordem em que os versos de dez e de seis sílabas se sucedem nas oito estrofes do poema.

- A) 6, 10, 6, 6, 10, 10.
- B) 10, 6, 10, 10, 6, 6.
- C) 10, 10, 6, 10, 6, 6.
- D) 10, 6, 10, 6, 10, 6.
- E) 6, 10, 6, 10, 6, 6.

Resolução

Ao fazer a escansão dos versos, é possível verificar que todas as estrofes obedecem à seguinte metrifcação: o 1º, 3º e 4º versos são decassílabos, e o 2º, 5º e 6º versos são hexassílabos.

Resposta: B

Questão 8

Marque a alternativa em que o verso apresenta acento tônico na segunda e na sexta sílabas:

- A) o tempo arrebatado. D) e ao brando sol me aquente.
B) das belezas que teve. E) na mão formosa e pia.
C) daqui a poucos anos.

Resolução

O verso *o tempo alre/ba/ta/do* é o único que possui acento tônico na 2ª e 6ª sílabas, como pede o enunciado. A alternativa B apresenta um verso com acento tônico na 3ª e 6ª sílabas. As alternativas C, D e E apresentam tonicidade na 2ª, 4ª e 6ª sílabas.

Resposta: A

Questão 9

No conteúdo da quinta estrofe do poema encontramos uma das características mais marcantes do Arcadismo:

- A) paisagem bucólica. D) filosofia moral.
B) pessimismo irônico. E) desencanto com o amor.
C) conflito dos elementos naturais.

Resolução

A 5ª estrofe apresenta expressões como *prado florescente*, *sítio ameno* e *brando sol*, imagens que identificam a característica árcaica do bucolismo. Ao mostrar o poeta numa relação direta com a vida campestre, tem-se o retrato de uma paisagem contemplativa que o aproxima dos ideais clássicos do *fugere urbem* e *locus amoenus*.

Resposta: A

Questão 10

Observe os seguintes vocábulos extraídos da sétima estrofe do poema:

- I. ternos.
II. frios.
III. pia.
IV. pranto.

As palavras que aparecem na estrofe como adjetivos estão contidas apenas em:

- A) I e II. D) I, II e IV.
B) I e III. E) II, III e IV.
C) I, II e III.

Resolução

Na sétima estrofe, as palavras *ternos*, *frios* e *pia* são adjetivos, pois modificam, respectivamente, os substantivos *olhos*, *beijos* e *mão*. Quanto ao vocábulo *pranto*, caracteriza-se como substantivo.

Resposta: C

Instrução: As questões de números 11 a 15 tomam por base os parágrafos iniciais e alguns fragmentos de um artigo assinado por Wilson Weigl na revista *Conhecer*, edição de número 20, de 2011.

Raça, suor e tecnologia

Quem é o maior craque do mundo na sua opinião? O argentino Messi? O português Cristiano Ronaldo? Xavi, do Barcelona? Ou você elege a prata da casa, como Kaká, Neymar ou Ganso? São jogadores que esbanjam talento, forma física e técnica. Mas o momento em que esses ídolos entram em campo representa a finalização de um processo envolvendo milhões de dólares em pesquisas de ponta. Porque, além da qualidade individual e do nível tático da equipe, hoje também os uniformes e a bola podem influir no placar final.

Não é exagero. Grandes empresas fabricantes de material esportivo trabalham em parceria com universidades e laboratórios em todo o mundo para desenvolver e aplicar as mais inovadoras tecnologias em chuteiras, camisetas, calções, meias e luvas, visando melhorar o rendimento dos jogadores. O objetivo é amplo: maximizar a performance dos atletas durante os 90 minutos da partida, diminuir o impacto do esforço e encurtar o tempo de recuperação após o jogo. “Os craques da elite do futebol mundial não são apenas garotos-propaganda, mas pilotos de testes no desenvolvimento dos produtos que podem demorar até dois anos antes de chegar às prateleiras das lojas”, diz Daniel Schmidt, gerente de futebol da Adidas no Brasil. E, como não poderia deixar de ser, os grandes campeonatos internacionais são as principais vitrines desses novos produtos.

Entretanto, nenhuma chuteira ou camisa proporcionaria significativo aumento de rendimento dos atletas não fossem as recentes descobertas médicas sobre os processos fisiológicos e as variáveis que influenciam o desempenho esportivo. Conceitos que hoje estão na boca de todos os frequentadores de academia — como biótipo, zona de frequência cardíaca e índice de massa corporal, por exemplo — surgiram nos estudos dos profissionais de medicina esportiva. “Essas descobertas se aceleraram a partir dos anos 80”, conta Miguel de Arruda, diretor associado da Faculdade de Educação Física da Universidade de Campinas (Unicamp), que presta assessoria para times de futebol. Hoje, já é corriqueiro o treinamento de atletas levar em conta informações sobre a influência de marcadores bioquímicos (como atividade hormonal e concentração enzimática). Nada disso era conhecido na época dos gloriosos dias de Garrincha, Pelé e Ademir da Guia.

Produtos desenvolvidos pelas grandes marcas vão chegar primeiro às mãos (ou aos pés) dos astros do esporte.

[...]

Os uniformes atuais, por exemplo, são capazes de baixar a temperatura corporal, facilitar a evaporação do suor e tonificar a musculatura, melhorando a força. Pois tanto o tecido quanto a modelagem das camisetas e dos calções influem no melhor aproveitamento de energia pelo jogador ou, por outro lado, no desperdício dela.

[...]

Há chuteiras que proporcionam mais potência nos chutes, maior controle da bola ou precisão nos passes.

Os modelos atuais são cada vez mais leves e confortáveis; quase sapatilhas de corrida, alguns chegam a pesar meros 165 gramas — menos da metade do peso que Pelé carregava na Copa de 1970, no México. Uma chuteira daquela época pesava cerca de 500 gramas.

▶ Questão 11

Na linguagem do futebol e dos esportes, o termo *raça*, que aparece no título deste artigo, significa:

- A) diferença de origem geográfica.
- B) o conjunto dos ascendentes e descendentes.
- C) desprezo aos companheiros menos talentosos.
- D) maior inteligência e afinidade.
- E) vontade firme, grande determinação.

Resolução

Na linguagem do futebol e dos esportes, “*raça*” significa “vontade firme, grande determinação”. O *Dicionário Eletrônico Houaiss da Língua Portuguesa* registra os sentidos “determinação, empenho, coragem, espírito de luta” e oferece exemplo de emprego da palavra nessa acepção: “um time com muita *raça*”.

Resposta: E

▶ Questão 12

Examine as afirmações, comparando-as com o que se informa no artigo apresentado.

- I. O futebol se tornou um grande negócio no mundo de hoje.
- II. As conquistas da moderna medicina esportiva são fator de melhoria do desempenho físico dos jogadores.
- III. A tecnologia dos equipamentos do esporte pode tornar qualquer pessoa um gênio do futebol.
- IV. Os craques da elite do futebol mundial são também garotos-propaganda de produtos de grandes marcas.

As afirmações que correspondem as que se expõe no artigo são, apenas:

- A) I e II.
- B) I e III.
- C) I, II e III.
- D) I, II e IV.
- E) II, III e IV.

Resolução

A única proposição incompatível com o texto é a terceira: nele não se menciona nada que nos permita inferir que a tecnologia dos equipamentos é capaz de tornar *qualquer pessoa* um gênio do futebol. A primeira proposição é sustentada pelas informações de que os craques são também “garotos-propaganda”, os grandes campeonatos internacionais são “vitrines” de “novos produtos” e as grandes empresas fabricantes de material esportivo, universidades e laboratórios em todo o mundo desenvolvem pesquisas que envolvem “milhões de dólares”. A segunda é sustentada pelas informações de que o “significativo aumento de rendimento dos atletas” se deveu aos “estudos dos profissionais de medicina esportiva”. A quarta proposição praticamente parafraseia o trecho: “Os craques da elite do futebol mundial não são apenas garotos-propaganda, mas...”

Resposta: D

Questão 13

A leitura atenta do artigo revela que seu autor atribui maior importância, entre os fatores que podem causar a melhoria do desempenho dos atletas:

- A) *à publicidade, que leva os jogadores a ganhar milhões de dólares e demonstrar que merecem receber tanto dinheiro.*
- B) *às conquistas da medicina esportiva, que possibilitam significativo acréscimo ao desempenho físico dos atletas.*
- C) *à contratação dos jogadores como pilotos de testes para o aperfeiçoamento dos novos equipamentos.*
- D) *aos novos equipamentos, como chuteiras, calções, meias e luvas, feitos de materiais que duplicam a capacidade dos atletas.*
- E) *ao patriotismo dos atletas, que se superam ao representar seus países no estrangeiro.*

Resolução

Entre os fatores que melhoram o desempenho dos atletas, o texto atribui maior importância às conquistas da medicina esportiva. Esse é o propósito do terceiro parágrafo, no qual se ressalta que “nenhuma chuteira ou camisa proporcionaria significativo rendimento dos atletas se não fossem as recentes descobertas médicas sobre os processos fisiológicos e as variáveis que influenciam o desempenho esportivo”.

Resposta: B

Questão 14

Embora o artigo tenha por finalidade enfatizar a utilidade dos produtos da tecnologia e das conquistas da medicina para a prática do futebol, a menção em destaque a grandes jogadores como Pelé, Garrincha, Ademir da Guia, Messi, Cristiano Ronaldo, Xavi, Kaká, Neymar e Ganso deixa implícito que:

- A) *no futebol não é importante ser um grande jogador, mas ter o melhor equipamento.*
- B) *sem tecnologia e atenção médica, esses jogadores não seriam tão grandes como a imprensa propaga.*
- C) *a imprensa é que cria ídolos, pois todos os jogadores jogam praticamente do mesmo modo.*
- D) *os grandes jogadores perdem a confiabilidade, na medida em que “se vendem” para empresas como testadores de produtos e garotos-propaganda.*
- E) *com ou sem tecnologia ou progressos científicos, são os grandes talentos a principal referência do futebol e dos esportes em geral.*

Resolução

A menção a grandes craques demonstra que são os grandes talentos a principal referência do futebol e dos esportes em geral. Pode-se perceber isso pela importância dessas menções tanto no plano da forma textual, uma vez que ocupam a introdução e têm o papel de captar a atenção e o interesse do leitor, quanto no plano do conteúdo, em que a atividade de alguns desses ídolos é apresentada como a última etapa de pesquisas de ponta que envolvem milhões de dólares, enquanto a de outros é emblema de um passado em que essas pesquisas ainda não existiam ou eram incipientes.

Resposta: E

▶ Questão 15

Estar em forma física e forma técnica, no artigo e no jargão esportivo, designam, respectivamente, o fato de um atleta

- A) *ter condições de apresentar o necessário rendimento físico e de servir-se de todas as suas habilidades durante uma partida.*
- B) *demonstrar excelente rendimento tático e ótimo desempenho na marcação do adversário.*
- C) *revelar alto índice de massa corporal e ser dotado de biótipo adequado à prática do esporte.*
- D) *apresentar atividade hormonal elevada e baixa concentração enzimática.*
- E) *ser dotado de talento individual e capacidade de percepção dos esquemas do adversário.*

Resolução

No jargão esportivo, um atleta está em “forma física e técnica” quando suas condições físicas e mentais lhe permitem tirar proveito de seu talento individual e explorar suas habilidades durante uma partida, no limite do seu potencial.

Resposta: A

Instrução: As questões de números 16 a 20 tomam por base uma reportagem de Antônio Gois publicada em 03.02.2012 pelo jornal Folha de S.Paulo.

Laptop de aluno de escola pública tem problemas

Estudo feito pela UFRJ para o governo federal mostra que o programa UCA (Um Computador por Aluno), implementado em 2010 em seis municípios, esbarrou em problemas de coordenação, capacitação de professores e adequação de infraestrutura.

O programa piloto do MEC forneceu 150 mil laptops de baixo custo a professores e alunos de cerca de 300 escolas públicas. As cidades foram prometidas infraestrutura para acesso à internet e capacitação de gestores e professores.

Uma das conclusões do estudo foi que a infraestrutura de rede foi inadequada. Em cinco cidades, os avaliadores identificaram que os sinais de internet eram fracos e instáveis tanto nas escolas quanto nas casas e locais públicos.

A pesquisa mostra que os professores se mostravam entusiasmados no início, mas, um ano depois, 70% relataram não ter contado com apoio para resolver problemas técnicos e 42% disseram usar raramente ou nunca os laptops em tarefas pedagógicas.

Em algumas cidades, os equipamentos que davam defeito ficaram guardados por falta de técnicos que soubessem consertá-los.

Além disso, um quinto dos docentes ainda não havia recebido capacitação, e as escolas não tinham incorporado o programa em seus projetos pedagógicos.

Um dos pontos positivos foi que os alunos passaram a ter mais domínio de informática. O programa foi mais eficiente quando as escolas que permitiram levar o laptop para casa.

Foram avaliadas Barra dos Coqueiros (SE), Santa Cecília do Pavão (PR), São João da Ponta (PA), Terenos (MS) e Tiradentes (MG). Os autores do estudo não deram entrevista.

▶ Questão 16

[...] o programa UCA (Um Computador por Aluno), implementado em 2010 em seis municípios, **esbarrou em** problemas de coordenação, capacitação de professores e adequação de infraestrutura.

*Observe as seguintes tentativas de substituir **esbarrou em** nesta passagem.*

- I. foi de encontro a.*
- II. defrontou-se com.*
- III. resolveu.*
- IV. eliminou.*

As substituições que não alteram substancialmente o sentido da frase estão contidas em:

- A) *I e II.*
- B) *I e III.*
- C) *II e III.*
- D) *I, II e IV.*
- E) *II, III e IV.*

Resolução

O termo “esbarrar em” indica que o programa encontrou problemas em sua implementação. A ideia, apesar de não ser exatamente a mesma (com a ressalva feita já no próprio enunciado da questão), pode ser traduzida pelas expressões “foi de encontro a” (que significa “colidiu”, “bateu de frente”) e “defrontrou-se com” (o mesmo que “encontrou pela frente”).

Resposta: A

Questão 17

Os autores do estudo não deram entrevista.

Considerando que é praxe no jornalismo entrevistar o autor ou os autores de livros ou artigos comentados, o jornalista, ao fechar a notícia com a frase mencionada, busca deixar claro que

- A) os autores foram muito antipáticos ao não conceder entrevista.
- B) a análise feita não tem credibilidade, já que os autores não falam a respeito.
- C) a notícia apresentada resulta exclusivamente da leitura do estudo pelo jornalista.
- D) não havia necessidade de os autores se manifestarem a respeito de seu trabalho.
- E) os autores da pesquisa não foram realmente convidados a dar entrevista.

Resolução

Considerando que os autores do estudo não deram entrevista e que a notícia não cita outras fontes, depreende-se que o texto se baseia exclusivamente na análise que o jornalista fez da pesquisa.

Resposta: C

Questão 18

Uma das conclusões do estudo foi que a infraestrutura de rede foi inadequada.

Examine as quatro possibilidades de reescrever a frase destacada para evitar a repetição desnecessária da forma verbal foi.

- I. Uma das conclusões do estudo aponta que a infraestrutura de rede foi inadequada.
- II. Uma das conclusões do estudo foi a inadequação da estrutura de rede.
- III. A estrutura de rede foi inadequada, conforme uma das conclusões do estudo.
- IV. Uma das conclusões do estudo foi que a infraestrutura de rede foi considerada inadequada.

As frases que evitam a repetição da forma verbal foi estão contidas apenas em

- A) I e II.
- B) I e III.
- C) II e III.
- D) I, II e III.
- E) II, III e IV.

Resolução

Em I, a forma verbal “foi” é trocada por “aponta”: se a conclusão do estudo foi X, pode-se dizer que ela aponta X, mostra X como resultado. Em II, a oração subordinada substantiva predicativa “que a infraestrutura da rede foi inadequada” é substituída pelo substantivo “inadequação”. Em III, a oração principal “A infraestrutura de rede foi inadequada” apresenta uma ideia que está de acordo com a conclusão do estudo, fato introduzido pela conjunção conformativa “conforme”. As três soluções evitam a repetição de “foi”.

Resposta: D

Questão 19

O programa foi mais eficiente quando as escolas que permitiram levar o laptop para casa.

Assinale a alternativa que indica a falha de revisão verificada na passagem destacada.

- A) O jornalista deveria ter usado o termo mais adequado: notebook.
- B) Seria muito mais claro empregar computador em vez de laptop.
- C) A palavra que deveria ter sido eliminada, porque não tem função na frase.
- D) Deveria haver ponto após escolas.
- E) Deveria ter sido colocada uma vírgula depois da palavra permitiram.

Resolução

A palavra “que” separa o sujeito “as escolas” do verbo “permitiram”, não introduzindo nenhuma oração. Está, pois, inadequada, o que possivelmente se justifica por desatenção do revisor. Tem-se a impressão de que a palavra que iria dar início a uma nova oração. Mas essa expectativa não se realiza, pois após essa possível oração, o período não se completa.

Resposta: C

Questão 20

Uma leitura atenta do texto apresentado revela que a principal falha do programa UCA foi

- A) dos alunos, que não se mostraram aplicados em aprender.
- B) dos professores, que perderam logo o interesse.
- C) das escolas, que não exigiram mais de professores e alunos.
- D) dos prefeitos das cidades, que não providenciaram melhores condições para as escolas.
- E) do próprio programa, que não previu infraestrutura técnica adequada e treinamento de gestores e professores.

Resolução

Se os problemas foram de coordenação, capacitação de professores e adequação de infraestrutura, segundo afirma o primeiro parágrafo da notícia, conclui-se que a principal falha do programa advém do próprio programa, e não daqueles que deveriam ser preparados para a sua implementação.

Resposta: E

Instrução: Leia o texto para responder às questões de números 21 a 25.

Amy Winehouse greets Whitney Houston in heaven

(by Hideaki Tailor)

HEAVEN — Psychics are saying that Amy Winehouse was the first soul singer to greet Whitney Houston, even before Michael Jackson.

Top psychics in Los Angeles are saying that Whitney Houston’s spirit is already “lighting up” heaven. “It’s like the universal source has called the greatest voice of all time back to heaven. It’s pure magic up there.”

“Amy was right there. She gave Whitney a big angel hug and walked with her as she met some of her ancestors, relatives and... Michael Jackson.”



Both singers had trouble on earth with alcohol and drugs, but they are at peace now. “Fame was too much for their gentle souls,” said Madam Marie of Sherman Oaks. “Their voices were a gift to our world, but caused great damage to their spirits on earth. Now, they are in a better place.”

One psychic said that Amy Winehouse and Whitney Houston are planning a “concert” together in Whitney’s first few months. “Amy’s been doing very well in heaven and feels free and happy.”

While Americans and fans around the world mourn the terrible loss of Whitney, the angels are rejoicing. “Our songbird is home,” is what St. Peter reportedly said when greeting Whitney, according to a psychic on Venice Beach.

(<http://weeklyworldnews.com>. Adaptado.)

▶ Questão 21

O texto trata, principalmente,

- A) de fatos memoráveis da vida de duas cantoras famosas e já falecidas, Amy Winehouse e Whitney Houston.
- B) de um famoso concerto no qual as cantoras Amy Winehouse e Whitney Houston haviam se apresentado.
- C) da problemática de pessoas famosas que se envolvem com álcool e drogas, que podem causar sua morte.
- D) de alguns dons sobrenaturais que ambas as cantoras, Amy Winehouse e Whitney Houston, possuíam.
- E) de um encontro entre Amy Winehouse e Whitney Houston, após a morte de Whitney Houston.

Resolução

Depreende-se a partir do título "Amy Winehouse greets Whitney Houston in heaven" (Amy Winehouse cumprimenta Whitney Houston no céu).

Resposta: E

▶ Questão 22

Amy Winehouse cumprimentou Whitney Houston

- A) porque ambas tinham os mesmos ancestrais, que viviam na cidade de Los Angeles.
- B) em companhia do cantor Michael Jackson, que havia morrido antes das duas cantoras.
- C) com um abraço e a acompanhou para encontrar alguns de seus parentes já falecidos.
- D) logo após a cantora ter cumprimentado Michael Jackson com um abraço caloroso.
- E) porque tinham se tornado grandes amigas quando se conheceram em Los Angeles.

Resolução

Lê-se em: "Amy was right there. She gave Whitney a big angel hug and walked with her as she met some of her ancestors, relatives and... Michael Jackson."

Resposta: C

▶ Questão 23

De acordo com o texto, ambas as cantoras, Amy Winehouse e Whitney Houston,

- A) sempre foram muito gentis com admiradores e fãs.
- B) além de famosas, possuíam alguns dons sobrenaturais.
- C) merecem a paz celestial, pois sofreram bastante em vida.
- D) prejudicaram muito seus espíritos enquanto viveram.
- E) cantaram juntas em um concerto em Los Angeles.

Resolução

Lê-se em: "Both singers had trouble on earth with alcohol and drugs, but they are at peace now. "Fame was too much for their gentle souls," said Madam Marie of Sherman Oaks. "Their voices were a gift to our world, but **caused great damage to their spirits** on earth. Now, they are in a better place."

Resposta: D

▶ Questão 24

Qual das seguintes expressões equivale, no texto, à ideia de Deus?

- A) Top psychics.
- B) big angel hug.
- C) gentle souls.
- D) universal source.
- E) St. Peter.

Resolução

A expressão "universal source" refere-se à "fonte geradora do Universo" ou seja, Deus.

Resposta: D

▶ Questão 25

A quem se refere o termo *our*, na expressão *our songbird*, no último parágrafo do texto?

- A) Aos anjos e santos.
- B) Aos norte-americanos.
- C) Aos fãs das cantoras.
- D) A São Pedro.
- E) A uma famosa vidente.

Resolução

Lê-se em: "While Americans and fans around the world mourn the terrible loss of Whitney, the angels are rejoicing. "Our songbird is home," is what St. Peter reportedly said when greeting Whitney..."

Resposta: A

Instrução: Leia a letra da música, interpretada por Amy Winehouse, para responder às questões de números 26 a 30.

Tears dry on their own

All I can ever be to you,
Is a darkness that we knew
And this regret I got accustomed to
Once it was so right
When we were at our high,
Waiting for you in the hotel at night
I knew I hadn't met my match
But every moment we could snatch
I don't know why I got so attached
It's my responsibility,
And you don't owe nothing to me
But to walk away I have no capacity

He walks away
The sun goes down,
He takes the day but I'm grown
And in your way
In this blue shade
My tears dry on their own.

I don't understand
Why do I stress a man,
When there's so many bigger things at hand
We could have never had it all
We had to hit a wall
So this is inevitable withdrawal
Even if I stopped wanting you,
A perspective pushes through
I'll be some next man's other woman soon
[...]
I wish I could say no regrets
And no emotional debts
'Cause as we kissed goodbye the sun sets
So we are history
The shadow covers me
The sky above a blaze
That only lovers see

(<http://letras.terra.com.br>. Adaptado.)

▶ Questão 26

Qual das seguintes expressões indica que um relacionamento amoroso foi bom?

- A) In this blue shade.
- B) [...] we were at our high.
- C) [...] I can ever be to you.
- D) [...] I got so attached.
- E) We had to hit a wall.

Resolução

“Nós estávamos em nosso melhor momento”.

Resposta: B

▶ Questão 27

Segundo a letra da música, qual das seguintes frases indica que um relacionamento amoroso acabou?

- A) It's my responsibility.
- B) The sun goes down.
- C) And in your way.
- D) I'm grown.
- E) Tears dry on their own.

Resolução

A partir do trecho “He walks away, the sun goes down” (Ele vai embora e o Sol desaparece), podemos inferir que o relacionamento acabou.

Resposta: B

▶ Questão 28

A cantora afirma que

- A) logo estará envolvida com outra pessoa.
- B) os homens a deixam muito estressada.
- C) sabia que tinha encontrado a pessoa certa.
- D) não tem capacidade para viver sozinha.
- E) vai chorar muito pelo fim do romance.

Resolução

Lê-se em: “I'll be some next man's other woman soon”

Resposta: A

▶ Questão 29

Assinale a alternativa correta.

- A) A cantora gostaria de ter se envolvido bem mais no relacionamento.
- B) O fim inesperado do relacionamento jamais será superado pela cantora.
- C) A cantora gostaria que o fim do relacionamento não deixasse ressentimentos.
- D) Uma outra mulher foi a causa do fim inesperado do relacionamento.
- E) O fim do relacionamento aconteceu após uma noite em um quarto de hotel.

Resolução

Lê-se em: “I wish I could say no regrets, And no emotional debts”

Resposta: C

▶ Questão 30

Em qual alternativa todas as palavras, conforme utilizadas na letra da música, são formas verbais?

- A) *Accustomed, away, knew, met, was.*
- B) *Ever, hand, match, waiting, were.*
- C) *Accustomed, hand, know, owe, was.*
- D) *Away, ever, met, snatch, waiting.*
- E) *Attached, knew, met, owe, were.*

Resolução

O aluno poderia resolver a questão por exclusão:

- A) "Away" não é forma verbal;
- B) "Ever" não é forma verbal;
- C) "hand", no caso, não é forma verbal (at hand = à mão);
- D) "Away" não é forma verbal.

No texto a palavra "attached" (apegada) é a forma do particípio passado do verbo **to attach** (unir, vincular) usada como adjetivo.

Resposta: E

▶ Questão 31

A escravidão [na Roma antiga] foi praticada desde os tempos mais remotos dos reis, mas seu desenvolvimento em grande escala foi consequência das guerras de conquista [...].

(Patrick Le Roux. Império Romano, 2010.)

Sobre a escravidão na Roma antiga, é correto afirmar que

- A) *assemelhava-se à escravidão ocorrida no Brasil colonial, pois era determinada pela procedência e pela raça.*
- B) *aumentou significativamente durante a expansão romana pelo Mar Mediterrâneo.*
- C) *atingiu o auge com a ocupação romana da Germânia e de territórios na Europa Central.*
- D) *diminuiu bastante após a implantação do Império e foi abolida pelos imperadores cristãos.*
- E) *diferenciava-se da escravidão ocorrida no Brasil colonial, pois os escravos romanos nunca podiam se tornar livres.*

Resolução

A expansão romana pelo Mediterrâneo levou à construção de um grande império. As anexações territoriais, somadas à escravização de parte das populações vencidas, acabaram por consolidar a estrutura de produção em grande propriedade sustentada pela escravidão, que, diferentemente da do Brasil, não estava relacionada a questões raciais.

Resposta: B

▶ Questão 32

As feiras foram muito difundidas pela Europa a partir do século XI. Entre os motivos que provocaram tal fenômeno, podemos citar

- A) *a unificação da moeda europeia, que facilitou a atividade dos banqueiros e a aquisição de mercadorias.*
- B) *o aumento da produção agrícola, provocado pelos desmatamentos, que ampliavam a quantidade de terras cultiváveis.*
- C) *a eliminação das práticas feudais, que prendiam os camponeses à terra e reduziam a monetarização da economia.*
- D) *o crescimento urbano, provocado pelas doenças e epidemias que grassavam nas áreas rurais e provocavam êxodo em direção às cidades.*
- E) *a regionalização das economias, que limitou significativamente a obtenção de mercadorias provenientes de terras distantes.*

Resolução

A transição da Alta Idade Média para a Baixa Idade Média foi marcada pelo crescimento das atividades comerciais. A ampliação do comércio no Mediterrâneo levou à expansão das rotas pelo interior da Europa. Paralelamente a esse processo, o aumento das terras cultiváveis e o surgimento de novas técnicas agrícolas contribuiriam para o avanço do comércio.

Resposta: B

Questão 33

[Na época feudal] o mundo terrestre era visto como palco da luta entre as forças do Bem e as do Mal, hordas de anjos e demônios. Disso decorria um dos traços mentais da época: a belicosidade.

(Hilário Franco Junior. O feudalismo, 1986. Adaptado.)

A belicosidade (*disposição para a guerra*) mencionada expressava-se, por exemplo,

- A) no ingresso de homens de todas as camadas sociais na cavalaria e na sua participação em torneios.
- B) no pacto que reunia senhores e servos e determinava as chamadas relações vassálicas.
- C) na ampla rejeição às Cruzadas e às tentativas cristãs de reconquista de Jerusalém.
- D) no empenho demonstrado nas lutas contra muçulmanos, vikings e diferentes formas de heresias.
- E) na submissão de senhores e vassallos, reis e súditos, ao Islamismo.

Resolução

Esta questão faz referência aos inúmeros conflitos do mundo medieval, período marcado, principalmente na Europa Ocidental, por uma hegemonia ideológica, cultural e religiosa da Igreja Católica. Aqueles que não fossem cristãos eram considerados bárbaros e infiéis (*vikings* e muçulmanos) e aqueles que questionassem os dogmas católicos eram vistos como hereges. Dessa forma, esses diversos grupos seriam combatidos por uma sociedade belicosa e controlada pelo poder papal.

Resposta: D

Instrução: Leia o texto para responder às questões de números 34 e 35.

Nas primeiras três décadas que se seguiram à passagem da armada de Cabral, além das precárias guarnições das feitorias [...], apenas alguns naufragos [...] e "lançados" atestavam a soberania do rei de Portugal no litoral americano do Atlântico Sul.

(Adriana Lopez e Carlos Guilherme Mota. História do Brasil: uma interpretação, 2008.)

Questão 34

Os lançados citados no texto eram

- A) funcionários que recebiam, da Coroa, a atribuição oficial de gerenciar a exploração comercial do pau-brasil e das especiarias encontradas na colônia portuguesa.
- B) militares portugueses encarregados da proteção armada do litoral brasileiro, para impedir o atracamento de navios de outros países, interessados nas riquezas naturais da colônia.
- C) comerciantes portugueses encarregados do tráfico de escravos, que atuavam no litoral atlântico da África e do Brasil e asseguravam o suprimento de mão de obra para as colônias portuguesas.
- D) donatários das primeiras capitânicas hereditárias, que assumiram formalmente a posse das novas terras coloniais na América e implantaram as primeiras lavouras para o cultivo da cana-de-açúcar.
- E) súditos portugueses enviados para o litoral do Brasil ou para a costa da África, geralmente como degredados, que acabaram por se tornar precursores da colonização.

Resolução

Pela forma como o texto emprega o termo "lançados", os autores o relacionam aos portugueses desembarcados nas costas da África e do Brasil, sobretudo pela condenação ao degredo como pena por crimes cometidos na Metrópole, prática, aliás, que não se restringiu ao período pré-colonial.

Resposta: E

▶ Questão 35

No processo de ocupação portuguesa do atual território do Brasil, as primeiras três décadas que se seguiram à passagem da armada de Cabral podem ser caracterizadas como um período em que

- A) Portugal não se dedicou regularmente à sua colonização, pois estava voltado prioritariamente para a busca de riquezas no Oriente.
- B) prevaleceram as atividades extrativistas, que tinham por principal foco a busca e a exploração de ouro nas regiões centrais da colônia.
- C) Portugal estabeleceu rotas regulares de comunicação, interessado na imediata exploração agrícola das férteis terras que a colônia oferecia.
- D) prevaleceram as disputas pela colônia com outros países europeus e sucessivos episódios de invasão holandesa e francesa no litoral brasileiro.
- E) Portugal implantou fortificações ao longo do litoral e empenhou-se em estender seus domínios em direção ao sul, chegando até a região do Prata.

Resolução

Durante o período pré-colonial, entre 1500 e 1530, não houve povoamento e nem a organização de um sistema produtivo no território americano português. O desinteresse revelado pelas autoridades de Lisboa é explicado pela ausência de riquezas de vulto que justificassem a ocupação do Novo Mundo. Nesse momento, a Coroa portuguesa estava prioritariamente atraída pela imensa riqueza que poderia ser proporcionada pelas especiarias orientais.

Resposta: A

▶ Questão 36

Encontrar uma forma de associação que defenda e proteja a pessoa e os bens de cada associado com toda a força comum, e pela qual cada um, unindo-se a todos, só obedece contudo a si mesmo, permanecendo assim tão livre quanto antes. Esse, o problema fundamental cuja solução o contrato social oferece.

[...]

Cada um de nós põe em comum sua pessoa e todo o seu poder sob a direção suprema da vontade geral, e recebemos, enquanto corpo, cada membro como parte indivisível do todo.

(Jean-Jacques Rousseau. Do contrato social, 1983.)

O texto apresenta características

- A) iluministas e defende a liberdade e a igualdade social plenas entre todos os membros de uma sociedade.
- B) socialistas e propõe a prevalência dos interesses coletivos sobre os interesses individuais.
- C) iluministas e defende a liberdade individual e a necessidade de uma convenção entre os membros de uma sociedade.
- D) socialistas e propõe a criação de mecanismos de união e defesa de todos os trabalhadores.
- E) iluministas e defende o estabelecimento de um poder rigidamente concentrado nas mãos do Estado.

Resolução

O fragmento do filósofo francês Jean-Jacques Rousseau refere-se explicitamente às liberdades individuais e à forma como esses direitos devem ser protegidos por meio da atuação do Estado, fruto de um acordo entre os homens. Tal concepção é bastante característica do ideário iluminista.

Resposta: C

▶ Questão 37

A maioria do príncipe D. Pedro foi antecipada, em 1840, para que ele pudesse assumir o trono brasileiro. Entre os objetivos do chamado Golpe da Maioridade, podemos citar o esforço de

- A) obter o apoio das oligarquias regionais, insatisfeitas com a centralização política ocorrida durante o Período Regencial.
- B) ampliar a autonomia das províncias e reduzir a interferência do poder central nas unidades administrativas.

- C) abolir o Ato Adicional de 1834 e aumentar os efeitos federalistas da Lei Interpretativa do Ato, editada seis anos depois.
- D) promover ampla reforma constitucional de caráter liberal e democrático no país, reagindo ao centralismo da Constituição de 1824.
- E) restabelecer a estabilidade política, comprometida durante o Período Regencial, e conter revoltas de caráter regionalista.

Resolução

O Golpe da Maioridade, em julho de 1840, colocou D. Pedro II no trono com apenas 14 anos de idade. Essa foi a fórmula política engendrada pelos liberais e conservadores para superar a turbulência que caracterizou o Período Regencial, reprimir as várias revoltas provinciais e, assim, consolidar o Estado nacional.

Resposta: E

▶ Questão 38

Nunca se viu uma campanha como esta, em que ambas as partes sustentaram ferozmente as suas aspirações opostas. Vencidos os inimigos, vós lhes ordenáveis que levantassem um viva à República e eles o levantavam à Monarquia e, ato contínuo, atiravam-se às fogueiras que incendiavam a cidade, convencidos de que tinham cumprido o seu dever de fiéis defensores da Monarquia.

(Gazeta de Notícias, 28.10.1897 apud Maria de Lourdes Monaco Janotti. Sociedade e política na Primeira República.)

O texto é parte da ordem do dia, 06.10.1897, do general Artur Oscar e trata dos momentos finais de Canudos. Para o militar, o principal motivo da luta dos canudenses era a

- A) restauração monárquica, embora hoje saibamos que a rejeição à República era apenas uma das razões da rebeldia.
- B) valorização dos senhores rurais, ligados ao monarca, cujo poder era ameaçado pelo crescimento e enriquecimento das cidades.
- C) restauração monárquica, que, hoje sabemos, era de fato a única razão da longa resistência dos sertanejos.
- D) valorização do meio rural, embora hoje saibamos que Antônio Conselheiro não apoiava os incêndios provocados por monarquistas nas cidades republicanas.
- E) restauração monárquica, o que fez com que a luta de Antônio Conselheiro recebesse amplo apoio dos monarquistas do sul do Brasil.

Resolução

Para o governo federal, para o exército e parte considerável da imprensa da época, o movimento de Canudos era monarquista e representava uma ameaça à República, devendo por isso ser exterminado a ferro e fogo. Sabe-se, entretanto, que aquelas dezenas de milhares de sertanejos que se reuniram em torno de Antônio Conselheiro, analfabetos na quase totalidade, não tinham consciência política suficiente para distinguir a Monarquia da República. Por isso é uma temeridade afirmar, como faz a alternativa A, “que a rejeição à República era apenas uma das razões da rebeldia”, porque, assim o fazendo, está-se ratificando a interpretação de que Canudos era monarquista, o que é negado por dezenas de historiadores.

Resposta: A

▶ Questão 39

Bossa nova é ser presidente
desta terra descoberta por Cabral.
Para tanto basta ser tão simplesmente:
simpático, risonho, original.
Depois desfrutar da maravilha
de ser o presidente do Brasil,
voar da Velhacap pra Brasília,
ver Alvorada e voar de volta ao Rio.
Voar, voar, voar.
[...]

(Juca Chaves apud Isabel Lustosa. Histórias de presidentes, 2008.)

A canção *Presidente bossa-nova*, escrita no final dos anos 1950, brinca com a figura do presidente Juscelino Kubitschek. Ela pode ser interpretada como a

- A) representação de um Brasil moderno, manifestado na construção da nova capital e na busca de novos valores e formas de expressão cultural.
- B) celebração dos novos meios de transporte, pois Kubitschek foi o primeiro presidente do Brasil a utilizar aviões nos seus deslocamentos internos.
- C) rejeição à transferência da capital para o Planalto Central, pois o Rio de Janeiro continuava a ser o centro financeiro do país.
- D) crítica violenta ao populismo que caracterizou a política brasileira durante todo o período republicano.
- E) recusa da atuação política de Kubitschek, que permitia participação popular direta nas principais decisões governamentais.

Resolução

A canção “Presidente Bossa-Nova”, de Juca Chaves, pode ser interpretada como a representação de um Brasil moderno porque faz referência à construção de Brasília e à Bossa-Nova. Ela pode também ser interpretada de outra forma, porque o compositor, numa fina ironia, critica o presidente Juscelino Kubitschek, que gostava de “voar, voar, voar”.

Resposta: A

Instrução: Leia o texto para responder às questões de números 40 e 41.

A história dos vinte anos após 1973 é a de um mundo que perdeu suas referências e resvalou para a instabilidade e a crise. Só no início da década de 1990 encontramos o reconhecimento de que os problemas econômicos eram de fato piores que os da década de 1930. Em muitos aspectos, isso era intrigante. Por que deveria a economia mundial ter-se tornado menos estável?

(Eric Hobsbawm. Era dos extremos, 1995. Adaptado.)

Questão 40

Os problemas econômicos da década de 1930, citados no texto, derivaram, entre outros fatores,

- A) dos fortes movimentos sociais e mobilizações revolucionárias na América Latina, em especial no México, que impediram a exportação de produtos industrializados norte-americanos para a região.
- B) do conjunto de reformas financeiras e sociais realizadas na União Soviética após a Revolução de 1917, que fechou os mercados do bloco socialista aos países capitalistas do Ocidente.
- C) da ascensão do nazismo alemão e dos regimes fascistas na Itália, Espanha e Portugal, que provocaram a Segunda Guerra Mundial e paralisaram a produção industrial europeia.
- D) de uma ampla crise do liberalismo, que ganhou contornos mais nítidos após a Primeira Guerra Mundial e desembocou na quebra da Bolsa de Valores de Nova York, em 1929.
- E) do forte crescimento econômico da Alemanha na passagem do século XIX para o XX e da acirrada competição comercial e naval deste país com a Grã-Bretanha e a França.

Resolução

A década de 1930 foi marcada pela Grande Depressão na economia mundial, evento marcado pelo desequilíbrio da economia capitalista (principalmente norte-americana) após o final da Primeira Guerra Mundial e, como consequência, o colapso financeiro de 1929, com a quebra da Bolsa de Nova York. Práticas liberais, isto é, não intervencionistas, não apenas possibilitaram como também acabaram agravando a crise.

Resposta: D

Questão 41

A instabilidade econômica mundial nos anos 1970-1990, citada no texto, derivou, entre outros fatores,

- A) da queda da produção industrial nos países capitalistas ricos do Ocidente, que determinou o fim da hegemonia financeira e do controle do mercado internacional pelos Estados Unidos e pela Alemanha.
- B) do fim dos impérios coloniais britânico e francês, da intensificação da corrida armamentista e da expansão dos conflitos étnicos e religiosos no Oriente Médio e no sul asiático.
- C) da onda de protestos sociais e reivindicações trabalhistas do início da década de 1980 no Leste Europeu, da ação militar norte-americana no Vietnã e da ininterrupta ascensão da economia japonesa.

- D) do crescimento econômico da China e dos chamados Tigres Asiáticos, que rompeu o equilíbrio econômico internacional e determinou o acelerado declínio da hegemonia norte-americana.
- E) da crise do petróleo no princípio da década de 1970, do aumento da desigualdade social nos países capitalistas ricos e da gradativa desintegração da economia da União Soviética.

Resolução

Após o período de prosperidade da economia mundial nos 30 anos posteriores à Segunda Guerra Mundial, a crise do petróleo nos anos 1970 e a lenta recuperação dessas economias através de medidas conservadoras e geradoras de desigualdade, inauguraram um prolongado período de instabilidade. O colapso das economias planificadas no bloco socialista, processo que culminou com o desaparecimento da União Soviética, contribuiu para ampliar o clima de incertezas.

Resposta: E

Questão 42

Entre o final da década de 1960 e o início da década de 1970, a economia brasileira obteve altos índices de crescimento. O fenômeno se tornou conhecido como milagre econômico e derivou da aplicação de uma política que provocou, entre outros efeitos,

- A) êxodo rural e incremento no setor ferroviário.
- B) crescimento imediato dos níveis salariais e das taxas de inflação.
- C) aumento do endividamento externo e da concentração de renda.
- D) estatização do aparato industrial e do setor energético.
- E) crise energética e novos investimentos em pesquisas tecnológicas.

Resolução

O acelerado crescimento econômico ocorrido entre 1969 e 1973, conhecido como “Milagre Econômico”, durante o governo do general-presidente Médici, é explicado pelos elevados investimentos feitos tanto pelo Estado, que contraiu elevados empréstimos externos, como por grandes empresas nacionais e por corporações econômicas estrangeiras. A economia expandiu-se numa taxa anual média de 11%, o que elevou o país à situação de oitava economia mundial. No entanto, a política de achatamento salarial gerou maior concentração de renda, o que levou o próprio presidente a reconhecer, envergonhado, que “a economia vai bem, mas o povo vai mal”.

Resposta: C

Questão 43

Leia os textos.

Em países como Bélgica, França e Portugal a temperatura chegou à casa dos 40°C e a população precisou buscar maneiras de se refrescar. Parques, especialmente aqueles com fontes, têm sido o destino de muitos moradores. A idosos e crianças tem sido recomendado não sair às ruas nos horários de calor mais intenso para evitar problemas de saúde.

(www.terra.com.br, julho de 2010. Adaptado.)

A onda de frio na Europa já matou 28 pessoas. A nevasca que atinge do Reino Unido à Lituânia suspendeu milhares de voos e prejudicou as viagens de trens. Estradas estão bloqueadas. Na Polônia, os termômetros chegaram a registrar -33°C.

(www.g1.com.br, dezembro de 2010.)

O tipo climático onde tradicionalmente se verifica essa grande variação de temperatura entre as estações do ano é o

- A) Equatorial.
- B) Tropical.
- C) Semiárido.
- D) Polar.
- E) Temperado.

Resolução

O fato de saber que o clima predominante na Europa é o temperado já seria suficiente para resolver a questão. Mas, além disso, a região temperada do globo é uma das mais sujeitas a grandes amplitudes térmicas, conforme as sugeridas na questão. Ou seja, essa zona climática pode sofrer tanto a ação de massas polares no inverno (o segundo texto é datado de dezembro, portanto inverno no Hemisfério Norte), quanto o efeito das massas tropicais no verão (conforme o primeiro texto, datado do mês de julho). Já nas regiões equatorial, tropical e semiárida não são registradas, em geral, temperaturas tão negativas, nem o clima polar apresenta temperaturas tão elevadas.

Resposta: E

Questão 44

As margens continentais são uma das diversas macroformas do relevo submarino. Elas margeiam os continentes apresentando, conforme o continente, características físicas diferentes, como extensão e profundidade. Analise as figuras, que correspondem aos diferentes tipos de margem continental presentes no planeta.

figura 1

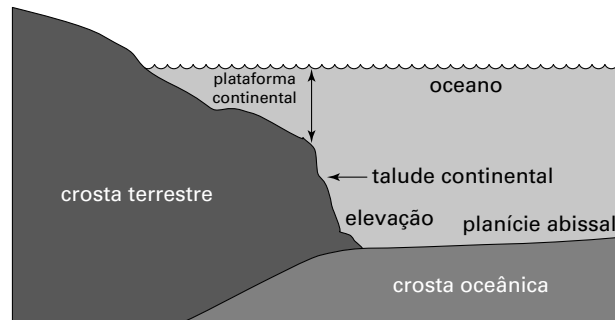


figura 2

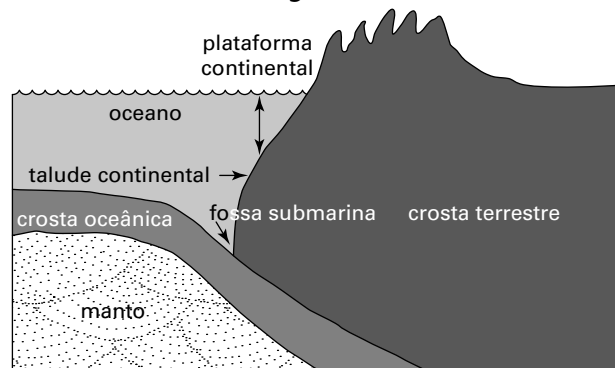
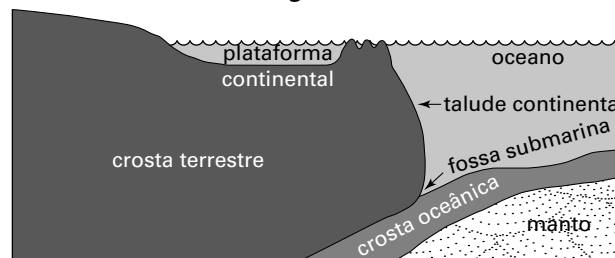


figura 3



(Jurandyr Ross (org.). Geografia do Brasil, 2001. Adaptado.)

É possível afirmar que as figuras 1, 2 e 3 correspondem, respectivamente, às margens continentais do tipo:

- A) Atlântico, pacífico cordilheriano e pacífico insular.
- B) Atlântico, pacífico insular e pacífico cordilheriano.
- C) Pacífico insular, atlântico e pacífico cordilheriano.
- D) Pacífico insular, pacífico cordilheriano e atlântico.
- E) Pacífico cordilheriano, atlântico e pacífico insular.

Resolução

A figura 1 representa a margem continental de tipo Atlântico, que é típica do litoral brasileiro e é marcada pela presença de uma plataforma continental mais extensa e de menor declividade. Tais características indicam uma maior estabilidade geológica e um processo de alongamento do fundo oceânico.

A figura 2 representa a margem continental de tipo Pacífico cordilheriano, cuja atividade tectônica é intensa devido à convergência entre a crosta terrestre, que sofre soerguimento, e a crosta oceânica, que sofre subsidência, formando uma fossa submarina, ao passo que surgem dobramentos no continente, como no caso da Cordilheira dos Andes.

A figura 3 representa a margem de tipo Pacífico insular, onde se observa um choque convergente entre crosta oceânica e crosta continental, que eleva parte da plataforma continental, formando ilhas na margem do continente.

Resposta: A

Questão 45

Analise o mapa, que representa a cobertura vegetal primitiva do estado de São Paulo.



(Adler Viadana. A teoria dos refúgios florestais aplicada ao estado de São Paulo, 2002. Adaptado.)

Considerando que a distribuição dos domínios vegetais varia conforme as condições ambientais do planeta (temperatura, disponibilidade de água em estado líquido etc.) em cada era geológica, é possível afirmar que, no estado de São Paulo,

- A) a cobertura vegetal primitiva não foi diretamente influenciada pelas variações climáticas ocorridas no planeta.
- B) a cobertura vegetal primitiva era caracterizada pela homogeneidade, visto que a vegetação de mata cobria toda área compreendida hoje pelo estado.
- C) a presença de áreas onde predominavam o domínio vegetal dos cerrados sinaliza a existência de temperaturas mais baixas durante a era geológica anterior à atual.
- D) condicionantes ambientais locais, como relevo, clima e disponibilidade hídrica, influenciaram na presença de domínios vegetais cuja principal área de incidência não se encontra no estado, como é o caso da vegetação de cerrado e de araucária.
- E) a presença da vegetação de cerrados, de araucária e de palmeiras é prova de que a interferência humana sobre a distribuição da vegetação natural no estado vem das primeiras eras geológicas.

Resolução

A vegetação de cerrado é típica da Região Centro-Oeste e a de araucárias é comum na Região Sul. No estado de São Paulo elas aparecem em razão de condicionantes ambientais locais. O relevo elevado influencia o surgimento de climas mais amenos, favorecendo a formação das araucárias.

Já o cerrado tem como determinantes a presença de solo ácido e o clima tropical típico, marcado por elevadas temperaturas durante o ano, chuvas no verão e estiagem no inverno.

Resposta: D

▶ Questão 46

Ao longo dos seus mais de vinte anos de existência, o Mercosul sofreu transformações institucionais e alterações no conjunto de países que compõem o bloco. Além dos países que fundaram o bloco em 1991 (países signatários do Tratado de Assunção), foram posteriormente incorporados ao bloco outros países, qualificados como associados. Podem ser mencionados como exemplos de país fundador e de país associado, respectivamente,

- A) Argentina e Paraguai.
- B) Bolívia e Brasil.
- C) Paraguai e Chile.
- D) Venezuela e Uruguai.
- E) Chile e Bolívia.

Resolução

O Mercosul (Mercado Comum do Sul) tem como países fundadores Argentina, Brasil, Paraguai e Uruguai, e cinco países associados: Bolívia, Chile, Peru, Colômbia e Equador. Cabe ressaltar que há meia década a Venezuela é "sócio pleno em estado de adesão". Sua entrada foi aprovada pelos congressos nacionais de Argentina, Brasil e Uruguai. Porém, o pedido de ingresso está parado no congresso nacional paraguaio há três anos.

Resposta: C

Instrução: Leia o trecho da música "Nóis é jeca mais é jóia" de Juraildes da Cruz e Xangai para responder às questões de números 47 e 48.

Se farinha fosse americana
mandioca importada
banquete de bacana
era farinhada

Andam falando que nóis é caipora
qui nóis tem qui aprender ingrês
qui nóis tem qui fazê xuxéxu fóra
deixe de bestáge
nóis nem sabe o português
nóis somo é caipira pop
nóis entra na chuva e nem móia
meu ailóviú
nóis é jéca mais é jóia

Tiro bicho de pé com canivete
mais já tô na internet
nóis é jéca mais é jóia.

▶ Questão 47

Considerando a letra da música e o processo de formação econômica e social dos países subdesenvolvidos, é possível afirmar que

- A) as formas culturais produzidas nos países subdesenvolvidos tornaram-se elementos valorizados no cotidiano das elites dos países desenvolvidos ao longo de seu processo de formação.
- B) a internalização, especialmente pela elite dos países subdesenvolvidos, de hábitos de consumo e formas culturais produzidos no exterior é uma característica marcante ao longo do processo de formação desses países.
- C) os hábitos de consumo e as formas culturais produzidas nos países desenvolvidos não tiveram impactos significativos no processo de formação social e cultural dos países subdesenvolvidos.
- D) as formas culturais e os hábitos de consumo produzidos nos países subdesenvolvidos foram responsáveis por moldar o comportamento cultural das elites dos próprios países subdesenvolvidos.
- E) a intensificação dos intercâmbios comerciais entre os países permitiu que produtos alimentares, como é o caso da mandioca, se caracterizassem como a base da alimentação de sociedades localizadas em todo o mundo.

Resolução

Os hábitos de consumo e as formas culturais produzidas nos países desenvolvidos têm forte impacto no processo de formação cultural e social dos países subdesenvolvidos. Esse fato é ironizado pela música destacada na questão, ao insinuar que, se a farinha de mandioca fosse consumida nos Estados Unidos, a elite dos países subdesenvolvidos consumiria esse alimento como se fosse um banquete.

Resposta: B

▶ Questão 48

Leia as afirmações.

- I. Embora a difusão das redes de telecomunicação tenha viabilizado a propagação de uma cultura de massa, esse processo não significa o aniquilamento das culturas locais.
- II. Os hábitos e os costumes locais foram substituídos por uma mesma forma cultural, produzida pela grande indústria e disseminada pelos meios de comunicação globalizados.
- III. Os costumes locais e a produção da chamada cultura de massa evoluem paralelamente, sem que haja transformações nos hábitos e costumes locais.

Considerando a letra da música e o atual processo de globalização, é correto o que se afirma apenas em

- | | |
|---------|--------------|
| A) I. | D) I e II. |
| B) II. | E) II e III. |
| C) III. | |

Resolução

A intensificação da globalização, especialmente pela difusão das redes de comunicação, amplia a propagação da cultura de massa, transformando os hábitos e costumes locais. No entanto, é preciso ressaltar que esse processo não significa o aniquilamento das culturas já existentes, fato destacado na letra da música, onde o enunciador afirma manter contato com a rede mundial de comunicação (internet), porém utilizando expressões coloquiais e mantendo hábitos locais.

Resposta: A

▶ Questão 49

Leia o texto.

A cada sopro de modernização das forças produtivas agrícolas e agroindustriais, as cidades das áreas adjacentes se tornam responsáveis pelas demandas crescentes de uma série de novos produtos e serviços, dos híbridos à mão de obra especializada, o que faz crescer a urbanização, o tamanho e o número das cidades. As casas de comércio de implementos agrícolas, sementes, grãos, fertilizantes; os escritórios de marketing, de consultoria contábil; [...] as empresas de assistência técnica, de transportes; os serviços do especialista em engenharia genética, veterinária, administração [...] se difundiram por todas as partes do Brasil agrícola moderno.

(Maria Adélia de Souza (org.). Território Brasileiro: usos e abusos, 2003.)

O texto faz referência a

- | | |
|----------------------------|---------------------------|
| A) cidades globais. | D) cidades planejadas. |
| B) metrópoles nacionais. | E) metrópoles conurbadas. |
| C) cidades do agronegócio. | |

Resolução

As cidades do agronegócio são as concentrações populacionais que se localizam nas regiões de expansão da fronteira agrícola, desenvolvendo atividades econômicas de características urbanas com forte comércio e serviços.

Um exemplo emblemático é Sinop-MT, pois tem seu nome derivado da sigla Serviço Imobiliário Noroeste do Paraná, e em menos de 30 anos da fundação já ultrapassava a marca de 100.000 habitantes, nove universidades, mais de 1.500 indústrias, etc.

Resposta: C

Questão 50

Analise a tabela.

Evolução do PIB do Brasil e das suas regiões, entre 1999 e 2008.

<i>PIB em milhões de reais</i>						
<i>Ano</i>	<i>Norte</i>	<i>Nordeste</i>	<i>Centro-Oeste</i>	<i>Sul</i>	<i>Sudeste</i>	<i>Brasil</i>
<i>1999</i>	<i>107.967</i>	<i>307.346</i>	<i>161.150</i>	<i>415.214</i>	<i>1.353.209</i>	<i>2.344.913</i>
<i>2008</i>	<i>160.673</i>	<i>412.859</i>	<i>289.780</i>	<i>521.422</i>	<i>1.764.124</i>	<i>3.148.858</i>
<i>Variação (%)</i>	<i>48,8</i>	<i>34,3</i>	<i>79,8</i>	<i>25,6</i>	<i>30,4</i>	<i>34,3</i>

(Júlio Miragaya. Mapa da Distribuição Espacial da Renda no Brasil, 2011. Adaptado.)

A partir dos dados apresentados na tabela, conclui-se que, durante o período analisado,

- A) a evolução percentual dos PIBs das regiões Sul e Sudeste foi superior à evolução dos PIBs das demais regiões brasileiras.
- B) os PIBs das regiões Norte, Nordeste e Centro-Oeste superaram os PIBs das regiões Sul e Sudeste em 2008.
- C) a evolução percentual dos PIBs das regiões Norte, Nordeste e Centro-Oeste foi inferior à evolução da média nacional.
- D) a evolução percentual dos PIBs das regiões Sul e Sudeste foi superior à evolução da média nacional.
- E) a evolução percentual dos PIBs das regiões Norte e Centro-Oeste foi superior à evolução da média nacional.

Resolução

A análise da tabela permite afirmar que as Regiões Centro-Oeste e Norte apresentaram uma taxa de crescimento percentual do PIB superior à média brasileira no período 1999-2008 (79,8% e 48,8% respectivamente). Convém observar que esses dados indicam um maior dinamismo econômico dessas regiões em relação às demais, não chegando, porém, a alterar a predominância das Regiões Sudeste, Sul e Nordeste na composição do PIB brasileiro.

Resposta: E

Questão 51

Leia o texto.

As bases materiais e políticas do mundo atual têm permitido uma revolução nas formas de circulação de dinheiro, criando assim novos modos de acumulação [...]. Novos instrumentos financeiros são incorporados ao território na forma de depósitos e de créditos ao consumo. A sociedade, assim, é chamada a consumir produtos financeiros, como poupanças de diversas espécies e mercadorias adquiridas com dinheiro antecipado. Com isso o sistema financeiro ganha duas vezes, pois dispõe de um dinheiro social nos bancos e lucra emprestando, como próprio, esse dinheiro social para o consumo.

(Milton Santos e Maria Laura Silveira.
O Brasil: território e sociedade no início do século XXI, 2001.)

São exemplos do processo de expansão do sistema financeiro no território brasileiro:

- A) a troca pessoal de produtos usados, a oferta de crédito consignado e a proliferação dos sistemas bancários de autoatendimento.
- B) a oferta de crédito consignado, a venda por cartão de crédito e a proliferação dos sistemas bancários de autoatendimento.
- C) a troca pessoal de produtos usados, a realização de compra por moeda corrente e a venda por cartão de crédito.
- D) o escambo, a realização de compra por moeda corrente e a restrição de crédito ao consumo pessoal.
- E) o escambo, a doação de bens e dinheiro para programas sociais e a restrição no ato da compra ao uso de moeda corrente.

Resolução

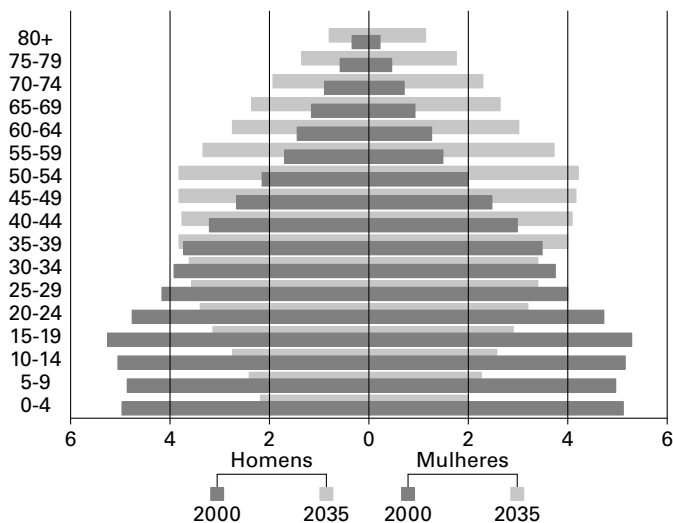
A expansão do capitalismo em direção ao mercado financeiro no Brasil dá-se pela oferta disponível de crédito (longe de escambo e trocas). Nessa direção, a consignação de créditos pessoais, atrelados aos salários e pensões, a venda por cartão de crédito e até mesmo o autoatendimento facilitam as transações creditícias e teoricamente estimulam o desenvolvimentismo capitalista.

Resposta: B

Questão 52

Analise a figura.

BRASIL: DISTRIBUIÇÃO ETÁRIA DA POPULAÇÃO POR SEXO, 2000 E 2035.



(<http://noticias.uol.com.br>)

Sobre as causas e os possíveis efeitos da previsão de mudança da estrutura etária brasileira entre 2000 e 2035, pode-se afirmar que

- A) a expansão do topo da pirâmide está associada à tendência de crescimento da expectativa de vida no Brasil e um de seus efeitos deverá ser a diminuição de demanda por serviços de saúde dirigidos à população idosa do país.
- B) a redução do topo da pirâmide etária está associada à tendência de crescimento da expectativa de vida no Brasil e um de seus efeitos deverá ser o aumento dos serviços turísticos destinados especialmente à população idosa do país.
- C) a redução da base da pirâmide está associada à queda da taxa de natalidade e um dos seus efeitos deverá ser a diminuição do número de jovens em idade escolar no país.
- D) a redução da base da pirâmide está associada ao aumento da taxa de fecundidade e um dos seus efeitos deverá ser o aumento total do número de jovens em idade escolar no país.
- E) o aumento proporcional da população adulta no país está associado ao aumento da taxa de natalidade e um dos seus efeitos deverá ser a constituição de uma situação de pleno emprego junto à população adulta do país.

Resolução

A mudança da pirâmide, principalmente de sua base, é um reflexo da redução da taxa de natalidade brasileira. Sua diminuição gera, em termos percentuais, um menor número de jovens, principalmente os que estão em idade escolar. Como há a perspectiva de que essa taxa continue a diminuir nas próximas décadas, muito provavelmente a proporção de jovens em 2035 será bem menor que aquela que o País apresentava em 2000.

Resposta: C

Questão 53

Analise a charge.



(Folha de S.Paulo, 07.11.2008.)

Sobre o processo de produção do espaço urbano e o acesso à moradia no Brasil, é correto afirmar que

- A) ao longo de nossa história não houve necessidade de políticas específicas para a habitação, visto que o processo natural de produção do espaço urbano brasileiro vem criando oportunidade de moradia para todos.
- B) as políticas sociais de assistência à moradia promovidas pelo Estado vêm historicamente garantindo acesso à moradia à população brasileira de alta renda.
- C) a dinâmica de oferta de moradia, comandada pelo mercado imobiliário, vem proporcionando acesso à moradia para todas as classes sociais, inclusive aquelas de baixa renda.
- D) o processo de urbanização, ao ser dado sob a lógica capitalista, produziu uma intensa especulação imobiliária, que vem restringindo o acesso à moradia para a população pobre.
- E) os movimentos sociais que lutam por moradia nas cidades reivindicam um direito que não é previsto pela Constituição do país.

Resolução

A rápida urbanização brasileira, desencadeada sobretudo ao longo do século 20, gerou uma intensa procura por moradias nas áreas urbanas. Tal fenômeno contribuiu para o desenvolvimento de intensa especulação imobiliária, elevando significativamente o valor das terras e propriedades no meio urbano. Dessa forma, parcela da população, principalmente aquela com menor poder aquisitivo, não tem onde morar ou se sujeita a viver em precárias condições — favelas, cortiços, malocas, etc. Em certos casos, a única opção é viver nas ruas ou, como ressalta a própria ilustração, debaixo de pontes e viadutos. A falta de uma política habitacional voltada para pessoas de baixa renda agrava e perpetua essa terrível situação.

Resposta: D

Questão 54

Recentemente, os debates sobre a reforma do Código Florestal Brasileiro ganharam destaque junto aos meios de comunicação, ao explicitarem importantes divergências políticas entre organizações e grupos sociais do país. Em síntese, o Código Florestal corresponde ao conjunto de regras que determinam

- A) a extensão máxima das Áreas de Preservação Ambiental e Reservas Extrativistas que devem ser mantidas em cada região brasileira.
- B) as áreas mínimas de cobertura natural que devem ser preservadas nas encostas e nas margens de rios em cada bioma brasileiro.
- C) o volume de matéria-prima, madeira, minérios, água, que cada ramo da indústria brasileira pode utilizar para a produção de bens manufaturados.
- D) a área mínima de cobertura vegetal, incluindo-se praças públicas e fragmentos de floresta urbana, que deve ser preservada nas áreas urbanas.
- E) as medidas que devem ser adotadas em situações de desastres ambientais resultantes da perfuração de jazidas de petróleo em terra e no mar.

Resolução

Os debates sobre a Reforma do Código Florestal Brasileiro correspondem a um conjunto de regras que estabelecem, entre outros aspectos, as áreas mínimas de coberturas vegetais que devem ser preservadas: nas encostas, com a finalidade de diminuir o risco de deslizamento; nas margens dos rios em cada bioma brasileiro, com a finalidade de evitar a aceleração do processo erosivo e, conseqüentemente, de problemas como o assoreamento dos rios.

Resposta: B

▶ Questão 55

Regulamentação publicada nesta segunda-feira, no Diário Oficial do Município do Rio, determina que as crianças e adolescentes apreendidos nas chamadas cracolândias fiquem internados para tratamento médico, mesmo contra a vontade deles ou dos familiares. Os jovens, segundo a Secretaria Municipal de Assistência Social (Smas), só receberão alta quando estiverem livres do vício. A “internação compulsória” vale somente para aqueles que, na avaliação de um especialista, estiverem com dependência química. Ainda de acordo com a resolução, todas as crianças e adolescentes que forem acolhidos à noite, “independente de estarem ou não sob a influência do uso de drogas”, não poderão sair do abrigo até o dia seguinte.

(www.estadao.com.br, 30.05.2012. Adaptado.)

As justificativas apresentadas neste texto para legitimar a “internação compulsória” de usuários de drogas são norteadas por:

- A) princípios filosóficos baseados no livre-arbítrio e na autonomia individual.
- B) valores de natureza religiosa fundamentados na preservação da vida.
- C) valores éticos associados ao direito absoluto à liberdade da pessoa humana.
- D) realização prévia de consultas públicas sobre a internação obrigatória.
- E) critérios médicos relacionados à distinção entre saúde e patologia.

Resolução

O texto determina os critérios utilizados para internação de usuários de drogas mesmo contra a sua vontade. O principal critério é a dependência química, que será determinada através da “avaliação de um especialista”. Nesse sentido, o avaliador definirá a diferença entre o indivíduo “saudável” (não dependente) e o “doente” (dependente).

Resposta: E

▶ Questão 56

O clima do “politicamente correto” em que nos mergulham impede o raciocínio. Este novo senso comum diz que todos os preconceitos são errados. Ao que um amigo observou: “Então vocês têm preconceito contra os preconceitos”. Ele demonstrava que é impossível não ter preconceitos, que vivemos com eles, e que grande quantidade deles nos é útil. Mas, afinal, quais preconceitos são pré-julgamentos danosos? São aqueles que carregam um juízo de valor depreciativo e hostil. Lembre-se do seu tempo de colégio. Quem era alvo dos bullies? Os diferentes. As crianças parecem repetir a história da humanidade: nascem trogloditas, violentas, cruéis com quem não é da tribo, e vão se civilizando aos poucos. Alguns, nem tanto. Serão os que vão conservar esses rótulos pétreos, imutáveis, muitas vezes carregados de ódio contra os “diferentes”, e difíceis (se não impossíveis) de mudar.

(Francisco Daudt. Folha de S.Paulo, 07.02.2012. Adaptado.)

O artigo citado aborda a relação entre as tendências culturais politicamente corretas e os preconceitos. Com base no texto, pode-se afirmar que a superação dos preconceitos que induzem comportamentos agressivos depende

- A) da capacidade racional de discriminar entre pré-julgamentos socialmente úteis e preconceitos disseminadores de hostilidade.
- B) de uma assimilação integral dos critérios “politicamente corretos” para representar e julgar objetivamente a realidade.
- C) da construção de valores coletivos que permitam que cada pessoa diferencie os amigos e os inimigos de sua comunidade.

- D) de medidas de natureza jurídica que criminalizem a expressão oral de juízos preconceituosos contra integrantes de minorias.
- E) do fortalecimento de valores de natureza religiosa e espiritual, garantidores do amor ao próximo e da convivência pacífica.

Resolução

O trecho do artigo proposto defende a visão de que o chamado “politicamente correto” é uma construção social caracterizada por formas variadas de pré-conceitos enraizados. Aponta ainda a possibilidade de a razão, também socialmente construída, distinguir entre os pré-julgamentos úteis à coesão do grupo e os preconceitos que lhe são prejudiciais.

Resposta: A

▶ Questão 57

Se um governo quer reduzir o índice de abortos e o risco para as mulheres em idade reprodutiva, não deveria proibi-los, nem restringir demais os casos em que é permitido. Um estudo publicado em “The Lancet” revela que o índice de abortos é menor nos países com leis mais permissivas, e é maior onde a intervenção é ilegal ou muito limitada. “Aprovar leis restritivas não reduz o índice de abortos”, afirma Gilda Sedgh (Instituto Guttmacher, Nova York), líder do estudo, “mas sim aumenta a morte de mulheres”. “Condenar, estigmatizar e criminalizar o aborto são estratégias cruéis e falidas”, afirma Richard Horton, diretor de “The Lancet”. “É preciso investir mais em planejamento familiar”, pediu a pesquisadora, que assina o estudo com a Organização Mundial da Saúde (OMS). Os seis autores concluem que “as leis restritivas não estão associadas a taxas menores de abortos”. Por exemplo, o sul da África, onde a África do Sul, que o legalizou em 1997, é dominante, tem a taxa mais baixa do continente.

(<http://noticias.uol.com.br>, 22.01.2012. Adaptado.)

Na reportagem, o tema do aborto é tratado sob um ponto de vista

- A) fundamentalista-religioso, defendendo a validade de sua proibição por motivos morais.
- B) político-ideológico, assumindo um viés ateu e materialista sobre essa questão.
- C) econômico, considerando as despesas estatais na área da saúde pública em todo o mundo.
- D) filosófico-feminista, defendendo a autonomia da mulher na relação com o próprio corpo.
- E) estatístico, analisando a ineficácia das restrições legais que proíbem o aborto.

Resolução

Segundo a reportagem, a questão do aborto é abordada do ponto de vista estatístico, com ênfase na ineficácia da proibição legal dessa prática, e sem a preocupação com posturas religiosas, ideológicas ou filosóficas.

Resposta: E

▶ Questão 58

A convite da Confederação Nacional de Seguros, instituição privada, ministros do STF (Supremo Tribunal Federal), do STJ (Superior Tribunal de Justiça) e do TST (Tribunal Superior do Trabalho) participaram de seminário em hotel de luxo no Guarujá (SP), no início de outubro. O evento, que aconteceu num hotel cinco estrelas, começou numa quinta-feira e prolongou-se até domingo. No período, as diárias variavam de R\$ 688,00 a R\$ 8.668,00. Além dos ministros, desembargadores e juízes de tribunais estaduais participaram do seminário. Foram discutidos assuntos de interesse dos anfitriões, como o julgamento de processos sobre previdência complementar e a boa-fé nos contratos de seguros.

(Folha de S.Paulo, 14.11.2011. Adaptado.)

A relevância jornalística do fato retratado pode ser relacionada a questões

- A) técnicas, associadas aos processos jurídicos em questão.
- B) éticas, associadas ao comprometimento da neutralidade jurídica.
- C) políticas, que envolvem a escolha da cidade do Guarujá.
- D) econômicas, derivadas da diferença de preço entre as diárias.
- E) burocráticas, na relação entre o estado e o capital privado.

Resolução

O texto noticia um evento promovido por instituição privada que beneficiou servidores públicos, no caso, ligados ao Poder Judiciário. Nesse sentido, abre-se uma questão ética: juízes devem aceitar benefícios de pessoas ou instituições sujeitas ao seu julgamento? Nesse caso, a própria neutralidade desses julgamentos poderia ser questionada.

Resposta: B

▶ Questão 59

Cada cultura tem suas virtudes, seus vícios, seus conhecimentos, seus modos de vida, seus erros, suas ilusões. Na nossa atual era planetária, o mais importante é cada nação aspirar a integrar aquilo que as outras têm de melhor, e a buscar a simbiose do melhor de todas as culturas. A França deve ser considerada em sua história não somente segundo os ideais de Liberdade-Igualdade-Fraternidade promulgados por sua Revolução, mas também segundo o comportamento de uma potência que, como seus vizinhos europeus, praticou durante séculos a escravidão em massa, e em sua colonização oprimiu povos e negou suas aspirações à emancipação. Há uma barbárie europeia cuja cultura produziu o colonialismo e os totalitarismos fascistas, nazistas, comunistas. Devemos considerar uma cultura não somente segundo seus nobres ideais, mas também segundo sua maneira de camuflar sua barbárie sob esses ideais.

(Edgard Morin. Le Monde, 08.02.2012. Adaptado.)

No texto citado, o pensador contemporâneo Edgard Morin desenvolve

- A) reflexões elogiosas acerca das consequências do etnocentrismo ocidental sobre outras culturas.
- B) um ponto de vista idealista sobre a expansão dos ideais da Revolução Francesa na história.
- C) argumentos que defendem o isolamento como forma de proteção dos valores culturais.
- D) uma reflexão crítica acerca do contato entre a cultura ocidental e outras culturas na história.
- E) uma defesa do caráter absoluto dos valores culturais da Revolução Francesa.

Resolução

A reflexão sociológica proposta ressalta aspectos contraditórios entre as estruturas culturais e a história concreta dos povos e nações. A ênfase no exemplo europeu denuncia o etnocentrismo exposto nas relações entre potências geradoras de “nobres ideais” valorizados pela “civilização” e povos colonizados e explorados de formas próximas à barbárie.

Resposta: D

▶ Questão 60

O psicólogo Drew Westen mostrou que, na política, emoções falam mais alto que a lógica. Ele monitorou os cérebros de militantes partidários enquanto viam seus candidatos favoritos caindo em contradição. Como previsto, eles não tiveram dificuldade para perceber a incongruência do “inimigo”, mas foram bem menos críticos em relação ao “aliado”. Segundo Westen, quando confrontados com informações ameaçadoras às nossas convicções políticas, redes de neurônios associadas ao estresse são ativadas. O cérebro percebe o conflito e tenta desligar a emoção negativa. Circuitos encarregados de regular emoções recrutam, então, crenças capazes de eliminar o estresse. A contradição é apenas fracamente percebida.

(Hélio Schwartsman. Folha de S.Paulo, 07.02.2012.)

A tese exposta no texto expõe uma dificuldade em compreender a contradição entre convicções pessoais e fatos objetivos. De acordo com o texto, essa contradição está relacionada

- A) à capacidade da razão de prevalecer sobre interferências de natureza emocional.
- B) às fortes tendências de manipulação do noticiário político pelos meios de comunicação.
- C) a estados patológicos que dificultam a tarefa de compreensão racional da realidade.
- D) a mecanismos neurológicos de proteção contra ideias e emoções ameaçadoras.
- E) à defasagem entre valores éticos e interesses pessoais no campo político e partidário.

Resolução

O texto faz referência ao mecanismo de funcionamento do cérebro humano e de como o próprio “instinto” de proteção (ou mesmo de sobrevivência) atua no sentido de minimizar ameaças, afetando a forma como tomamos decisões ou fazemos escolhas.

Resposta: D

Questão 61

No desenho de longa metragem Rio, dirigido pelo brasileiro Carlos Saldanha, em uma das cenas, Blu, um macho de ararinha-azul (*Cyanopsitta spixii*), fala para a fêmea que está tentando conquistar:

— Está com calor? Acho que estou suando! Nem sabia que era biologicamente possível. Olha!

E mostra para a companheira sua axila suada.



(Rio, 20th Century Fox, 2011.)

Considerando a fisiologia das aves, pode-se afirmar corretamente que

- A) as aves suam. As aves, assim como os demais vertebrados, são endotérmicos e mantêm a temperatura corporal a partir do calor gerado pelo próprio metabolismo, o que implica necessitarem de glândulas sudoríparas para dissipar o calor do corpo.
- B) as aves suam. Dentre os vertebrados, apenas as aves e os mamíferos são endotérmicos e utilizam o calor externo para manter alto o metabolismo, o que implica necessitarem de glândulas sudoríparas para dissipar o calor do corpo.
- C) as aves não suam. Embora sejam endotérmicas e mantenham a temperatura corporal a partir do calor gerado pelo metabolismo, as aves não apresentam glândulas sudoríparas, mas apresentam outros mecanismos fisiológicos de controle da temperatura corporal.
- D) as aves não suam. As aves constituem-se no grupo mais aparentado aos répteis e, como eles, são ectotérmicas e utilizam o calor externo para manter alto o metabolismo, razão pela qual não têm glândulas sudoríparas, mas apresentam outros mecanismos fisiológicos de controle da temperatura corporal.
- E) as aves não suam. Dentre os vertebrados, apenas os mamíferos são ectotérmicos e utilizam o calor externo para manter alto o metabolismo, o que implica que apenas eles apresentam glândulas sudoríparas e mecanismos fisiológicos de controle de temperatura corporal.

Resolução

Aves e mamíferos são, dentre os vertebrados, os dois únicos grupos endotérmicos que, portanto, mantêm a temperatura corporal relativamente constante. Para esse controle, existem vários mecanismos possíveis, entre os quais o da sudorese, presente apenas nos mamíferos — estes têm glândulas sudoríparas, ausentes nas aves.

Resposta: C

▶ Questão 62

Paulo e Mariana têm dois filhos, Júlio e Baltazar. Com relação aos tipos sanguíneos do sistema ABO, pai, mãe e os dois filhos têm, cada um deles, um tipo sanguíneo diferente.

Em razão disso, pode-se afirmar corretamente que

- A) se o pai tem sangue tipo A, a mãe necessariamente tem sangue tipo B.
- B) se a mãe tem sangue tipo AB, o pai necessariamente terá sangue tipo A ou tipo B.
- C) se a mãe tem sangue tipo O, um dos filhos terá necessariamente sangue tipo AB.
- D) se um dos filhos tem sangue tipo AB, o outro necessariamente terá sangue tipo A ou tipo B.
- E) se um dos filhos tem sangue tipo O, o outro necessariamente terá sangue tipo A ou tipo B.

Resolução

Pai de sangue A e mãe de sangue B, ambos heterozigotos ($I^A i$ e $I^B i$), podem ter filhos A, B, AB e O. No caso da questão, pressupõe-se, portanto, que este casal tenha um dos filhos AB ($I^A I^B$) e o outro O(ii).

Resposta: A

▶ Questão 63

Em um laboratório, um pesquisador aqueceu um segmento de dupla fita de DNA de modo que obteve duas fitas simples complementares.

Ao sequenciar uma dessas fitas, encontrou a relação $(A + G)/(T + C) = 0,5$, ou seja, o número de adeninas somado ao número de guaninas, quando dividido pelo número de timinas somado ao número de citosinas, resultou em 0,5.

Em função dessas informações, pode-se afirmar que o aquecimento foi necessário para romper as _____ e que a relação $(A + G)/(T + C)$ na fita complementar foi de _____.

As lacunas são preenchidas correta e respectivamente por:

- A) pontes de hidrogênio e 0,5.
- B) pontes de hidrogênio e 1,0.
- C) pontes de hidrogênio e 2,0.
- D) ligações fosfodiéster e 1,0.
- E) ligações fosfodiéster e 2,0.

Resolução

As duas fitas complementares de DNA estão ligadas entre si por pontes de hidrogênio, que são, no caso da questão, desfeitas pelo calor. Por outro lado, se numa das fitas a relação $(A + G)/(T + C)$ for igual a 0,5, ou seja, a soma de $(T + C)$ for o dobro da soma de $(A + G)$, na fita complementar, devido ao tipo de pareamento, a situação se inverte, aparecendo duas vezes mais $(A + G)$ do que $(T + C)$, equivalente a uma relação de 2,0.

Resposta: C

▶ Questão 64

“Homem de gelo” era intolerante à lactose e pouco saudável.

Ötzi, o “homem de gelo” que viveu na Idade do Bronze e cujo corpo foi encontrado nos Alpes italianos em 1991, tinha olhos e cabelos castanhos e era intolerante à lactose [...]. Essas características surgiram da análise do DNA da múmia [...]. Mutações do gene MCM6 indicam que ele não conseguia digerir a proteína da lactose encontrada no leite.

(www.folha.uol.com.br, 28.02.2012.)

Considere as afirmações:

- I. O texto apresenta uma incorreção biológica, pois a lactose não é uma proteína.
- II. A mutação a qual o texto se refere deve impedir que o indivíduo intolerante à lactose produza uma enzima funcional que a quebre em unidades menores, passíveis de serem absorvidas pelo intestino.
- III. A mutação que torna o indivíduo intolerante à lactose é provocada pela presença de leite na dieta, o que indica que Ötzi era membro de uma tribo que tinha por hábito o consumo de leite na idade adulta.

Assinale a alternativa correta.

- A) As três afirmações estão erradas.
- B) As três afirmações estão corretas.
- C) Apenas a afirmação I está errada.
- D) Apenas a afirmação II está errada.
- E) Apenas a afirmação III está errada.

Resolução

A afirmação I está correta, já que, de fato, a lactose é um açúcar, e não uma proteína. A frase II também está correta, já que as pessoas intolerantes à lactose não possuem a enzima funcional (lactase) que digere esse dissacarídeo. A frase III representa um conceito errôneo de evolução: mutações não surgem como resposta à presença de uma substância no ambiente.

Resposta: E

Questão 65

Recentemente, uma marca de arroz colocou nos meios de comunicação uma campanha publicitária com o tema *Só os saudáveis sobrevivem*. Em um dos filmes da campanha, um homem pré-histórico, carregando um pacote de batatas fritas, é perseguido por um dinossauro, que despreza as batatas e devora o homem. Em outro filme, um homem que come pizza não consegue fugir a tempo, enquanto seu companheiro de hábitos alimentares mais saudáveis sobrevive.

As figuras apresentam cenas desses dois filmes publicitários.



(www.rosalito.com.br)

Embora se trate de uma campanha publicitária, sem qualquer compromisso com o rigor científico, uma professora de biologia resolveu usar estes filmes para promover com seus alunos uma discussão sobre alguns conceitos biológicos e alguns fatos da evolução humana.

Pedro afirmou que ambos os filmes traziam uma informação errada, pois homens e dinossauros não coexistiram.

Alice afirmou que o tema da campanha publicitária, *Só os saudáveis sobrevivem*, remete ao conceito de seleção natural.

Marcos afirmou que os tubérculos e as sementes, não necessariamente as batatas e o arroz, só vieram a fazer parte da dieta humana uma vez estabelecida a agricultura.

Catarina observou que no primeiro filme o dinossauro desprezou as batatas, uma vez que esses animais, qualquer que fosse a espécie, eram predadores e, necessariamente, carnívoros.

Pode-se afirmar que estão corretos

- A) Pedro, Alice, Marcos e Catarina.
- B) Pedro e Alice, apenas.
- C) Pedro e Marcos, apenas.
- D) Alice e Marcos, apenas.
- E) Marcos e Catarina, apenas.

Resolução

Pedro está correto, já que homens e dinossauros não conviveram na mesma época geológica. Alice também está correta, já que o tema da campanha sugere a ação da seleção natural. No entanto, o homem primitivo provavelmente já se alimentava de tubérculos e sementes, mesmo antes do aparecimento da agricultura, invalidando a afirmação de Marcos. Segundo os dados disponíveis, nem todos os dinossauros eram carnívoros, o que torna falsa a afirmação de Catarina.

Resposta: B

▶ Questão 66

Gustavo foi contratado para trabalhar como jardineiro em uma residência na cidade de São Paulo. Os proprietários do imóvel exigiram que Gustavo mantivesse a grama sempre irrigada e aparada a uma altura específica, o que, dependendo da época do ano, exigiu podas mais ou menos frequentes.

Considerando que o balanço entre taxa de fotossíntese e taxa de respiração varia ao longo do ano em razão das diferenças de temperatura, intensidade luminosa e períodos de claro e escuro ao longo das 24 horas do dia, pode-se afirmar corretamente que as podas foram

- A) mais frequentes entre outubro e dezembro, período no qual a luminosidade intensa determinou o aumento da taxa de fotossíntese, mantendo o gramado no seu ponto de compensação fótica.*
- B) mais frequentes entre dezembro e fevereiro, período no qual o aumento da intensidade luminosa determinou um aumento na taxa de respiração.*
- C) menos frequentes entre abril e junho, período no qual as baixas temperaturas determinaram o aumento da taxa de respiração e colocaram o gramado acima de seu ponto de compensação fótica.*
- D) menos frequentes entre junho e agosto, período no qual a diferença entre a taxa de fotossíntese e a taxa de respiração tornou-se menor.*
- E) menos frequentes entre agosto e outubro, período no qual os dias mais curtos em relação às noites levaram a uma taxa de fotossíntese abaixo da taxa de respiração.*

Resolução

No ponto de compensação de certo vegetal, a intensidade luminosa permite uma taxa de fotossíntese equivalente à taxa de respiração. As plantas, na natureza, sempre estão, durante o dia, acima do ponto de compensação, ou seja, produzem mais do que consomem, podendo, assim crescer. No período entre junho e agosto, em que a intensidade luminosa é menor, a taxa de fotossíntese diminui, ficando mais próxima da taxa de respiração. Esse fato leva a haver menos sobra de alimento orgânico, e o crescimento das plantas será, portanto, menor nesse período, sendo menos necessárias as podas.

Resposta: D

▶ Questão 67

A Verdadeira Solidão.

[...] A grande novidade é que há pouco tempo foi descoberto um ser vivo que vive absolutamente sozinho em seu ecossistema. Nenhum outro ser vivo é capaz de sobreviver onde ele vive. É o primeiro ecossistema conhecido constituído por uma única espécie.

(Fernando Reinach. O Estado de S. Paulo, 20.11.2008.)

*O autor se refere à bactéria *Desulforudis audaxviator*, descoberta em amostras de água obtida 2,8km abaixo do solo, na África do Sul.*

Considerando-se as informações do texto e os conceitos de ecologia, pode-se afirmar corretamente que

- A) não se trata de um ecossistema, uma vez que não se caracteriza pela transferência de matéria e energia entre os elementos abióticos e os elementos bióticos do meio.*
- B) o elemento biótico do meio está bem caracterizado em seus três componentes: produtores, consumidores e decompositores.*
- C) os organismos ali encontrados ocupam um único ecossistema, mas não um único hábitat ou um único nicho ecológico.*

- D) trata-se de um típico exemplo de sucessão ecológica primária, com o estabelecimento de uma comunidade clímax.
- E) os elementos bióticos ali encontrados compõem uma população ecológica, mas não se pode dizer que compõem uma comunidade.

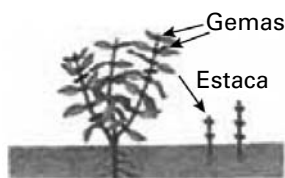
Resolução

Os indivíduos pertencentes a essa espécie de bactéria representam uma população. No entanto, nesse ambiente, não exista uma comunidade constituída, que seria, conceitualmente, a reunião de várias populações de diferentes espécies que convivem num certo ambiente.

Resposta: E

Questão 68

As figuras apresentam diferentes mecanismos que um agricultor pode empregar para promover a propagação vegetativa de algumas espécies vegetais.



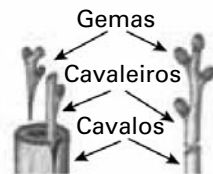
Estaquia: ramos caulinares, ou estacas, são cortados, e a extremidade cortada é enterrada no solo para que forme raízes.



Mergulhia: parte de um ramo da planta é enterrado até que se formem raízes, quando então é separado da planta que lhe deu origem.



Alporquia: é feito um pequeno corte em um dos ramos da planta, que é recoberto com terra úmida até que crie raízes, quando então é separado da planta que lhe deu origem.



Enxertia: ramos caulinares com gemas, chamados enxertos ou cavaleiros, são inseridos em outra planta provida de raízes, chamada porta-enxerto ou cavalo.

(Sônia Lopes e Sérgio Rosso. Bio. Adaptado.)

Sobre esses quatro métodos de propagação vegetativa, pode-se afirmar corretamente que:

- A) apenas um deles permite que uma mesma planta produza frutos de duas espécies diferentes.
- B) na estaquia, a gema apical da estaca deve ser mantida, sem o que não haverá o desenvolvimento das gemas laterais.
- C) na mergulhia, a nova planta produzirá apenas a parte vegetativa, e não desenvolverá frutos ou sementes.
- D) na alporquia, a nova planta será um clone da planta que lhe deu origem, exceto pelo fato de não poder desenvolver a reprodução sexuada.
- E) na enxertia, é importante que o tecido meristemático do enxerto não entre em contato com o tecido meristemático do porta-enxerto, sob o risco de não se desenvolver.

Resolução

Tanto na estaquia, como na mergulhia, como na alporquia, há apenas uma espécie de planta envolvida; os descendentes serão todos idênticos ao indivíduo que lhes deu origem, e produzirão todos eles frutos daquela espécie. No caso da enxertia, há duas espécies envolvidas, a do cavalo e a do cavaleiro. Assim, poderão ser produzidos flores e frutos das duas espécies.

Resposta: A

Questão 69

A tabela periódica é uma notável realização da ciência. Ela ajuda a organizar o que de outra forma seria um arranjo confuso dos elementos e de suas propriedades. A base da classificação periódica atual é a tabela do químico russo Mendeleev, proposta em 1869, com a diferença de que as propriedades dos elementos variam periodicamente com seus números atômicos e não com os pesos atômicos.

ОПЫТЪ СИСТЕМЫ ЭЛЕМЕНТОВЪ.

ОСНОВАННОЙ НА ВѢСЪ АТОМКОМЪ, ВѢСЪ И ХИМИЧЕСКОМЪ СХОДСТВѢ.

	Ti = 50	Zr = 90	? = 180.		
	V = 51	Nb = 94	Ta = 182.		
	Cr = 52	Mo = 96	W = 186.		
	Mn = 55	Rh = 104,4	Pt = 197,1.		
	Fe = 56	Ru = 104,4	Ir = 198.		
	Ni = Co = 59	Pd = 106,8	Os = 199.		
H = 1	Cu = 63,4	Ag = 108	Hg = 200.		
	Be = 9,1	Mg = 24	Zn = 65,2	Cd = 112	
	B = 11	Al = 27,1	? = 68	U = 116	Au = 197?

Д. Менделѣевъ

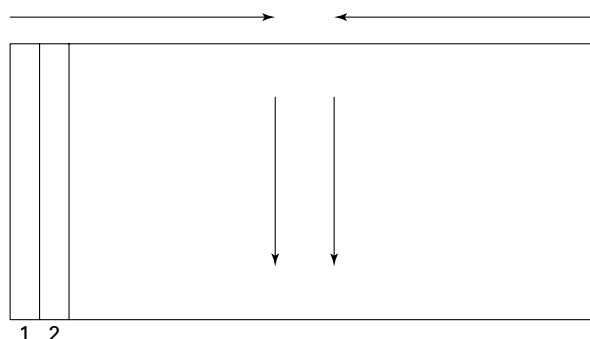
(<http://chemistry.about.com>. Adaptado.)

Analisando a classificação periódica, mesmo sem conhecer todos os elementos que ela apresenta, é possível afirmar que

- A) os não metais podem ser deformados com golpes de martelo.
- B) os metais alcalinoterrosos são mais densos que os metais alcalinos.
- C) os halogênios, em condições normais de temperatura e pressão, são líquidos coloridos.
- D) o oxigênio e o nitrogênio são gases à temperatura ambiente e seus átomos apresentam seis elétrons na camada mais externa.
- E) os elementos de uma mesma família da classificação periódica possuem propriedades semelhantes porque eles ocorrem no mesmo lugar da Terra.

Resolução

A variação da densidade na tabela periódica pode ser representada simplificada por



Portanto, podemos concluir que os metais alcalinoterrosos são mais densos que os metais alcalinos.

Resposta: B

Questão 70

Bicarbonato de sódio e carbonato de sódio são duas substâncias químicas muito presentes no cotidiano. Entre várias aplicações, o bicarbonato de sódio é utilizado como antiácido estomacal e fermento de pães e bolos, e o carbonato de sódio, conhecido como barrilha ou soda, tem sua principal aplicação na fabricação de vidro comum.

As fórmulas químicas do bicarbonato de sódio e do carbonato de sódio estão correta e respectivamente representadas em

- A) NaHCO_3 e NaOH .
- B) $\text{Na}(\text{CO}_3)_2$ e NaHCO_3 .
- C) NaHCO_3 e Na_2CO_3 .
- D) $\text{Na}(\text{HCO}_3)_2$ e NaOH .
- E) Na_2HCO_3 e Na_2CO_3 .

Resolução

Bicarbonato de sódio: NaHCO_3 .

Carbonato de sódio: Na_2CO_3 .

Resposta: C

Questão 71

Cores nas lagoas



O listrado multicolor que se desenha na areia quando o nível da água baixa nas lagoas do Pantanal da Nhecolândia, conhecidas como salinas, em Mato Grosso do Sul, por muito tempo foi um mistério para observadores. A explicação está numa cianobactéria que sobrevive nas condições dessas águas de pH entre 9 e 11. Na época seca essas bactérias se reproduzem em profusão e pintam as lagoas com substâncias de sua própria decomposição.

(Pesquisa FAPESP, fevereiro de 2012. Adaptado.)

Águas que apresentam pH entre 9 e 11 são

- A) ácidas, com $[\text{H}^+]$ que varia de 10^{-5} a 10^{-3} mol/L.
- B) ácidas, com $[\text{H}^+]$ que varia de 10^{-2} a 10^{-4} mol/L.
- C) alcalinas, com $[\text{OH}^-]$ que varia de 10^{-2} a 10^{-4} mol/L.
- D) alcalinas, com $[\text{OH}^-]$ que varia de 10^{-5} a 10^{-3} mol/L.
- E) neutras, com $[\text{H}^+]$ que se iguala a $[\text{OH}^-]$, de 10^{-7} mol/L.

Resolução

Águas com pH entre 9 e 11 são alcalinas.

$$\text{pH} = 9 \rightarrow \text{pOH} = 5 \rightarrow [\text{OH}^-] = 10^{-5} \text{ mol/L}$$

$$\text{pH} = 11 \rightarrow \text{pOH} = 3 \rightarrow [\text{OH}^-] = 10^{-3} \text{ mol/L}$$

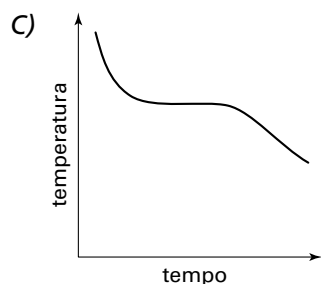
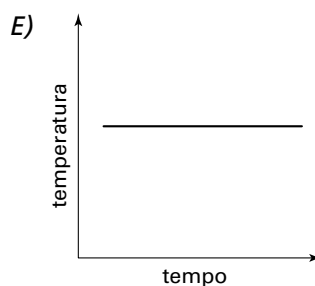
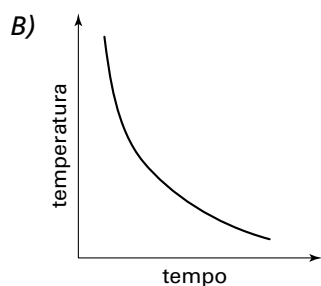
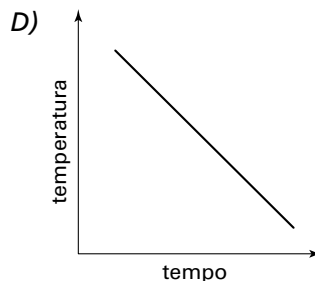
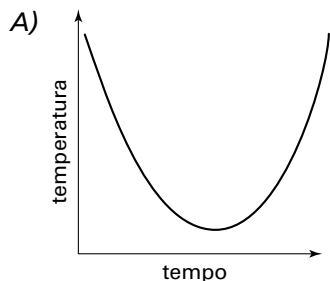
Assim, podemos concluir que a concentração hidroxiliônica varia de 10^{-5} a 10^{-3} mol/L.

Resposta: D

▶ **Questão 72**

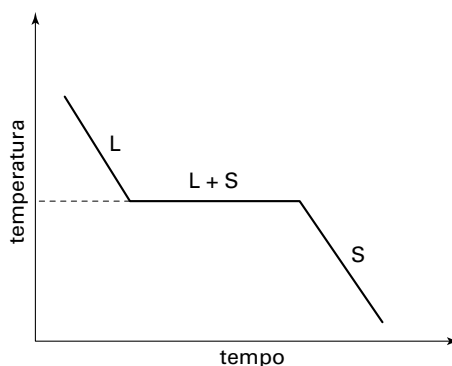
Na indústria farmacêutica, substâncias específicas são utilizadas para revestir pílulas e comprimidos. Em um experimento, uma das substâncias sólidas foi retirada de uma formulação e purificada. Para verificar a eficiência da purificação, um termômetro foi colocado em um tubo de ensaio contendo uma amostra da substância derretida, a 1 atm. Durante o resfriamento e até que a amostra tenha se solidificado completamente, foram lidas as temperaturas em intervalos regulares. Com esses dados, foi traçada a curva de resfriamento, um gráfico que mostra a variação de temperatura em função do tempo, a 1 atm.

O gráfico que corresponde à curva de resfriamento da substância pura está representado por



Resolução

A curva de resfriamento de uma substância pura pode ser representada por:



Durante a solidificação a temperatura permanece constante.

Resposta: C

Instrução: As questões de números 73 e 74 estão relacionadas ao texto seguinte.

Pela 1ª vez, drogas contra intoxicação radioativa alcançam bons resultados

Remédios para tratar intoxicação por radiação devem ser aprovados nos próximos anos. Hoje não existe nenhuma terapia para o tratamento e a prevenção dos danos fisiológicos da radiação, cujo principal efeito é a produção de radicais livres. A radiação atinge as moléculas de água e oxigênio abundantes no organismo e produz os radicais livres, que ao reagir alteram diversas estruturas celulares. A maioria das novas drogas tem a finalidade de diminuir os estragos produzidos pelos radicais livres.

(O Estado de S. Paulo, 13.02.2012. Adaptado.)

Questão 73

Em química, uma substância que tem a propriedade de diminuir os estragos produzidos por radicais livres é classificada como um

- A) antiácido.
- B) hidratante.
- C) cicatrizante.
- D) esterilizante.
- E) antioxidante.

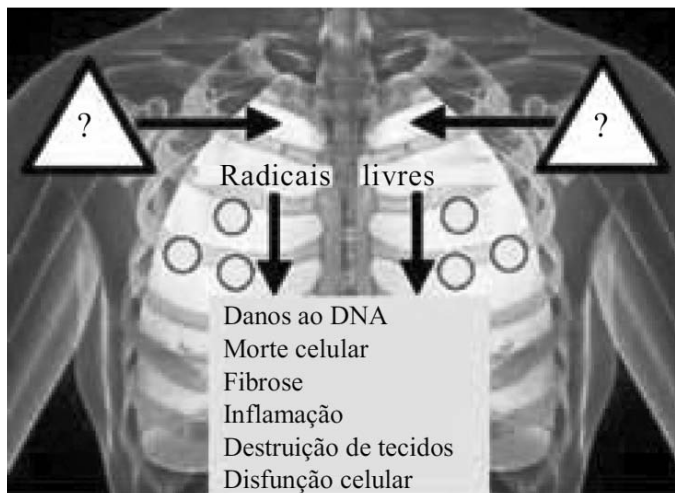
Resolução

Os radicais livres apresentam em suas estruturas pelo menos um elétron desemparelhado. Ao se ligarem, por exemplo, as estruturas celulares, podem provocar a sua oxidação. Os antioxidantes impedem essa oxidação.

Resposta: E



Questão 74




Para mostrar os efeitos da exposição de células e tecidos do organismo a elevados níveis de radiação nuclear, um professor utilizou a figura de um pulmão humano e nela indicou o que pode ocorrer em consequência da ação de radicais livres.



(<http://ebookdatabase.net/jj/John-mcmanus>. Adaptado.)

O professor pediu aos seus alunos que o ajudassem a completar corretamente a figura, escolhendo um símbolo para representar a utilização da radiação nuclear nas posições assinaladas com os pontos de interrogação. Para atender ao professor, os alunos devem escolher o símbolo

- A) , para informar que a radiação nuclear mata por asfixia.
- B) , para avisar do perigo de choque elétrico, pois no local há eletricidade exposta.

- C)  , para indicar que se trata de processo que envolve o uso de substâncias radioativas.
- D)  , para informar que as substâncias utilizadas para gerar a radiação são recicláveis.
- E)  , para informar que a radiação nuclear é um processo que utiliza líquidos inflamáveis.

Resolução

O símbolo: 

é utilizado para indicar substâncias ou processos envolvendo materiais radioativos.

Resposta: C

Questão 75

Enquanto estudava a natureza e as propriedades dos gases, um estudante anotou em seu caderno as seguintes observações sobre o comportamento de 1 litro de hidrogênio e 1 litro de argônio, armazenados na forma gasosa à mesma temperatura e pressão:

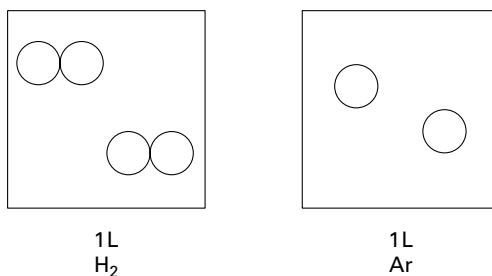
- I. Têm a mesma massa.
- II. Comportam-se como gases ideais.
- III. Têm o mesmo número de átomos.
- IV. Têm o mesmo número de mols.

É correto o que o estudante anotou em

- A) I, II, III e IV.
- B) I e II, apenas.
- C) II e III, apenas.
- D) II e IV, apenas.
- E) III e IV, apenas.

Resolução

Nas mesmas condições de temperatura e pressão



Pela hipótese de Avogadro, podemos concluir que ambos apresentam o mesmo número de mols. Em relação às massas, temos:

$$n_{\text{H}_2} = n_{\text{Ar}}$$

$$n_{\text{H}_2} = \frac{m_{\text{H}_2}}{M_{\text{H}_2}} \Rightarrow n_{\text{H}_2} = \frac{m_{\text{H}_2}}{2} \Rightarrow m_{\text{H}_2} = 2 \cdot n_{\text{H}_2}$$

$$n_{\text{Ar}} = \frac{m_{\text{Ar}}}{M_{\text{Ar}}} \Rightarrow n_{\text{Ar}} = \frac{m_{\text{Ar}}}{40} \Rightarrow m_{\text{Ar}} = 40 \cdot n_{\text{Ar}}$$

Logo, podemos concluir que as massas são diferentes.

Quanto ao número de átomos, temos:

$$n_{H_2} = n_{Ar}$$

Como as moléculas do H_2 são diatômicas, o número de átomos em seu recipiente será o dobro comparado com o frasco de Ar.

Em relação ao seu comportamento:

As interações intermoleculares e interatômicas são muito fracas, o que permite que ambos se comportem como gases ideais.

Resposta: D

Questão 76

Marina e Miriam, duas jovens estudantes, adquiriram um cosmético para cabelos cuja composição, apresentada na embalagem, está descrita a seguir:

Ingredientes: água, aminoácidos (arginina, ácido aspártico, ácido glutâmico, prolina, triptofano, cisteína, glicina, leucina, serina, butilenoglicol), álcool cetílico, álcool estearílico, parafina líquida, óleo mineral, miristato de isopropila, silicone, queratina hidrolisada, fragrância, tensoativo e conservantes.

lendo a descrição dos ingredientes, Marina fez as seguintes afirmações:

- I. O butilenoglicol deve ser retirado do conjunto que compreende os aminoácidos.
- II. O álcool estearílico é estruturalmente relacionado ao ácido esteárico.
- III. Parafina líquida e miristato de isopropila são substâncias polihidroxiladas de alta polaridade.

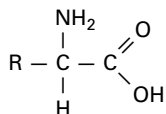
É correto o que Marina afirma em

- A) I, apenas.
- B) I e II, apenas.
- C) I e III, apenas.
- D) II e III, apenas.
- E) I, II e III.

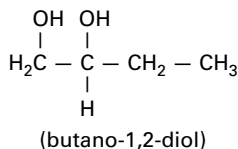
Resolução

I. Correta.

A estrutura básica de um aminoácido pode ser representada por



Assim, o butilenoglicol:



é um diálcool, e não um aminoácido.

II. Correta.



A oxidação do álcool pode produzir o ácido.

III. Incorreta.

A parafina é uma mistura de hidrocarbonetos (alcanos), sendo formada por carbono e hidrogênio → apolar.

O mirismato de isopropila é um éster praticamente apolar.

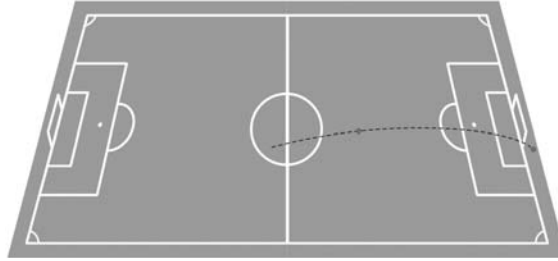
Resposta: B

Questão 77

O gol que Pelé não fez

Na copa de 1970, na partida entre Brasil e Tchecoslováquia, Pelé pega a bola um pouco antes do meio de campo, vê o goleiro tcheco adiantado, e arrisca um chute que entrou para a história do futebol brasileiro. No início do lance, a bola parte do solo com velocidade de 108 km/h (30 m/s), e três segundos depois toca novamente o solo atrás da linha de fundo, depois de descrever uma parábola no ar e passar rente à trave, para alívio do assustado goleiro.

Na figura vemos uma simulação do chute de Pelé.

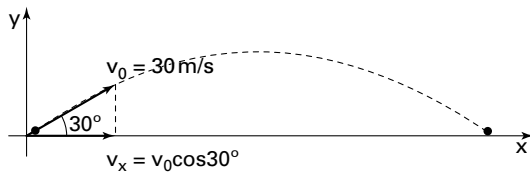


(<http://omnis.if.ufrj.br/~carlos/futebol/textoCatalogoExpo.pdf>. Adaptado.)

Considerando que o vetor velocidade inicial da bola após o chute de Pelé fazia um ângulo de 30° com a horizontal ($\text{sen}30^\circ = 0,50$ e $\text{cos}30^\circ = 0,85$) e desconsiderando a resistência do ar e a rotação da bola, pode-se afirmar que a distância horizontal entre o ponto de onde a bola partiu do solo depois do chute e o ponto onde ela tocou o solo atrás da linha de fundo era, em metros, um valor mais próximo de

- A) 52,0. D) 80,4.
B) 64,5. E) 86,6.
C) 76,5.

Resolução



$$v_x = v_0 \cos 30^\circ = 30 \cdot 0,85 = 25,5 \text{ m/s}$$

Na direção horizontal, o movimento da bola é uniforme. Logo: $x = x_0 + v_x \cdot t$
Assim, a distância horizontal (D) percorrida pela bola em 3 segundos é:

$$D = 25,5 \cdot 3$$

$$D = 76,5 \text{ m}$$

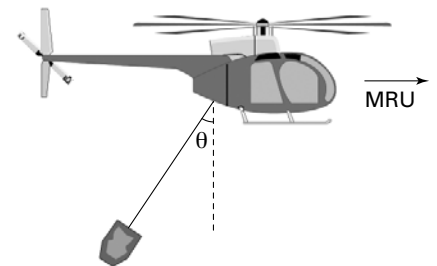
Resposta: C

Questão 78

Em uma operação de resgate, um helicóptero sobrevoa horizontalmente uma região levando pendurado um recipiente de 200 kg com mantimentos e materiais de primeiros socorros. O recipiente é transportado em movimento retilíneo e uniforme, sujeito às forças peso (\vec{P}), de resistência do ar horizontal (\vec{F}) e tração (\vec{T}), exercida pelo cabo inextensível que o prende ao helicóptero.

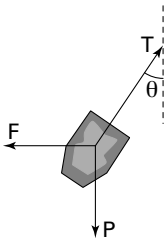
Sabendo que o ângulo entre o cabo e a vertical vale θ , que $\text{sen}\theta = 0,6$, $\text{cos}\theta = 0,8$ e $g = 10 \text{ m/s}^2$, a intensidade da força de resistência do ar que atua sobre o recipiente vale, em N,

- A) 500. D) 1750.
B) 1250. E) 2000.
C) 1500.

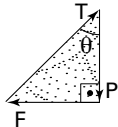


Resolução

Como o movimento é retilíneo e uniforme, a resultante das forças que agem no recipiente é nula. As forças atuantes no recipiente são:



Como a resultante é nula, a soma vetorial das forças no corpo é:



$$\operatorname{tg}\theta = \frac{F}{P}$$

$$F = P \cdot \operatorname{tg}\theta$$

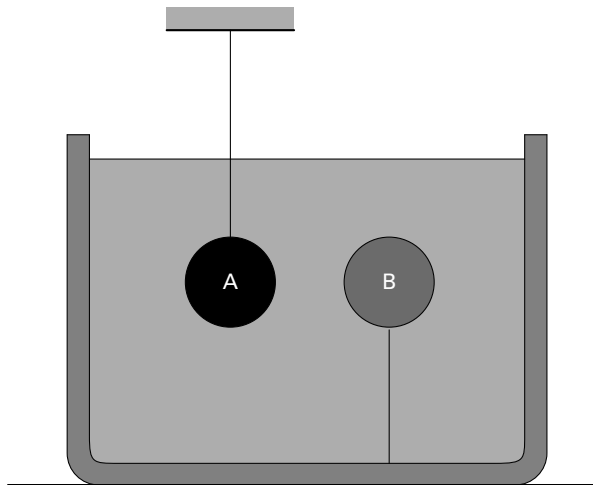
$$F = m \cdot g \cdot \frac{\operatorname{sen}\theta}{\operatorname{cos}\theta} = 200 \cdot 10 \cdot \frac{0,6}{0,8}$$

$$\therefore F = 1500 \text{ N}$$

Resposta: C

Questão 79

Duas esferas, A e B, maciças e de mesmo volume, são totalmente imersas num líquido e mantidas em repouso pelos fios mostrados na figura. Quando os fios são cortados, a esfera A desce até o fundo do recipiente e a esfera B sobe até a superfície, onde passa a flutuar, parcialmente imersa no líquido.



Sendo P_A e P_B os módulos das forças Peso de A e B, e E_A e E_B os módulos das forças Empuxo que o líquido exerce sobre as esferas quando elas estão totalmente imersas, é correto afirmar que

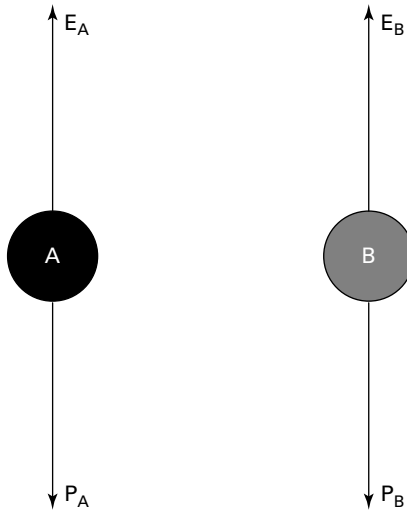
- A) $P_A < P_B$ e $E_A = E_B$.
- B) $P_A < P_B$ e $E_A < E_B$.
- C) $P_A > P_B$ e $E_A > E_B$.
- D) $P_A > P_B$ e $E_A < E_B$.
- E) $P_A > P_B$ e $E_A = E_B$.

Resolução

Sendo a intensidade do empuxo igual ao peso do líquido deslocado e observando que as esferas deslocam o mesmo volume do líquido, conclui-se que os empuxos aplicados às esferas têm a mesma intensidade.

$$E_A = E_B = E$$

Após os fios serem cortados, as forças que atuam nas esferas são:



Como a esfera A afunda: $P_A > E$

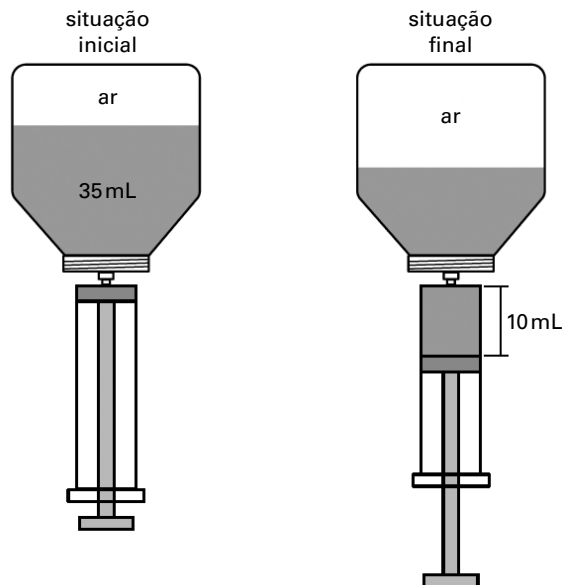
Como a esfera B sobe: $P_B < E$

Logo, pode-se concluir que: $P_A > P_B$

Resposta: E

Questão 80

Um frasco para medicamento com capacidade de 50 mL, contém 35 mL de remédio, sendo o volume restante ocupado por ar. Uma enfermeira encaixa uma seringa nesse frasco e retira 10 mL do medicamento, sem que tenha entrado ou saído ar do frasco. Considere que durante o processo a temperatura do sistema tenha permanecido constante e que o ar dentro do frasco possa ser considerado um gás ideal.



Na situação final em que a seringa com o medicamento ainda estava encaixada no frasco, a retirada dessa dose fez com que a pressão do ar dentro do frasco passasse a ser, em relação à pressão inicial,

- A) 60% maior.
- B) 40% maior.
- C) 60% menor.

- D) 40% menor.
- E) 25% menor.

Resolução

Vamos considerar que o ar no interior do frasco seja considerado um gás ideal.

Para essa situação, temos:

$$\begin{array}{l} \text{Início} \left\{ \begin{array}{l} \text{pressão: } p \\ \text{volume: } 15 \text{ mL} \\ \text{temperatura: } T \end{array} \right. \\ \\ \text{Fim} \left\{ \begin{array}{l} \text{pressão: } p' \\ \text{volume: } 25 \text{ mL} \\ \text{temperatura: } T \end{array} \right. \end{array}$$

Comparando-se as situações inicial e final:

$$\begin{aligned} p_i V_i &= p_f V_f \\ \frac{p_i}{T_i} &= \frac{p_f}{T_f} \\ p \cdot 15 &= p' \cdot 25 \\ p' &= 0,6 \cdot p \end{aligned}$$


Ou seja, a pressão final é 40% inferior à pressão inicial.

Resposta: D

Questão 81

Os gatos 1 e 2 encontram-se parados em um ambiente iluminado apenas por duas lâmpadas puntiformes penduradas no teto. O único obstáculo existente nesse ambiente é uma mesa opaca de tampo horizontal, apoiada no solo, também horizontal e opaco. Os gatos estão em um mesmo plano vertical (o plano da figura), que contém as lâmpadas e que passa pelo centro da mesa. Desconsiderando a reflexão da luz em qualquer superfície e efeitos de difração nas bordas da mesa, pode-se afirmar que os gatos 1 e 2 encontram-se, respectivamente, em regiões de

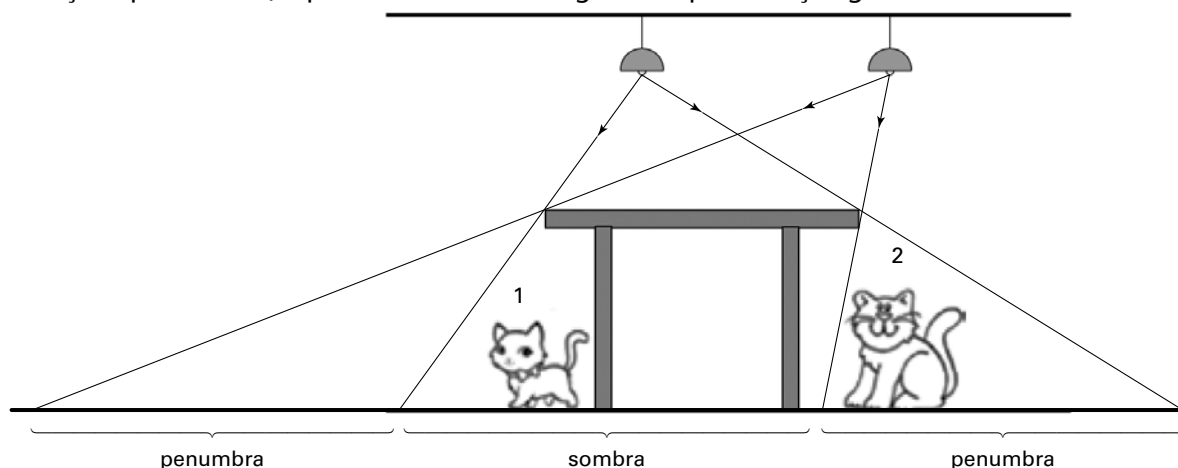
- A) sombra e de penumbra.
- B) sombra e de sombra.
- C) sombra e iluminada pelas duas lâmpadas.



- D) penumbra e iluminada pelas duas lâmpadas.
- E) penumbra e de penumbra.

Resolução

Para a situação apresentada, é possível construir a seguinte representação gráfica dos raios de luz:



- Logo:
- gato 1 se encontra na sombra;
 - gato 2 se encontra na penumbra.

Resposta: A

► Questão 82

Indução eletrostática é o fenômeno no qual pode-se provocar a separação de cargas em um corpo neutro pela aproximação de um outro já eletrizado. O condutor que está eletrizado é chamado indutor e o condutor no qual a separação de cargas ocorreu é chamado induzido. A figura mostra uma esfera condutora indutora positivamente eletrizada induzindo a separação de cargas em um condutor inicialmente neutro.

Analisando a figura e sobre o processo de eletrização por indução, são feitas as seguintes afirmações:

- I. Para eletrizar o corpo neutro por indução, deve-se aproximar o indutor, conectar o induzido à terra, afastar o indutor e, finalmente, cortar o fio terra.*
- II. Para eletrizar o corpo neutro por indução, deve-se aproximar o indutor, conectar o induzido à terra, cortar o fio terra e, finalmente, afastar o indutor.*
- III. Na situação da figura, a conexão do induzido à terra, com o indutor nas suas proximidades, faz com que prótons do induzido escoem para a terra, por repulsão.*
- IV. No final do processo de eletrização por indução, o corpo inicialmente neutro e que sofreu indução, adquire carga de sinal negativo.*

Está correto, apenas, o contido em

- | | |
|-------------|------------------|
| A) II. | D) II e IV. |
| B) I e III. | E) II, III e IV. |
| C) I e IV. | |

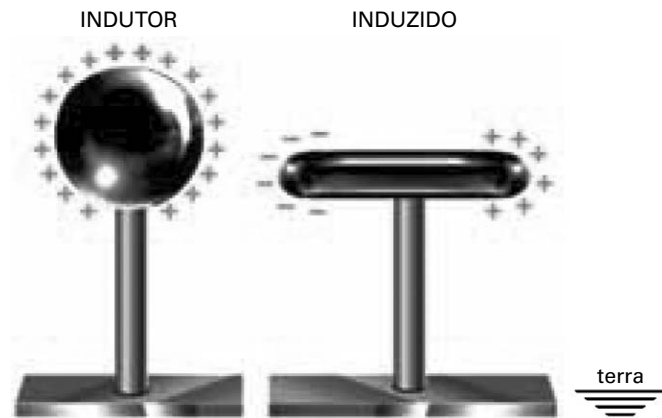


(<http://efisica.if.usp.br>. Adaptado.)

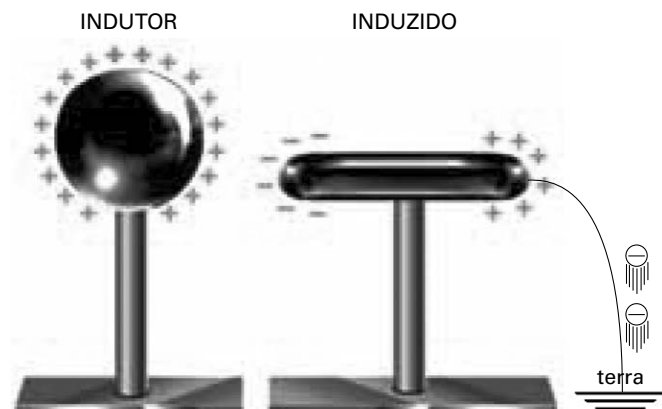
Resolução

A sequência a seguir ilustra o processo de eletrização por indução:

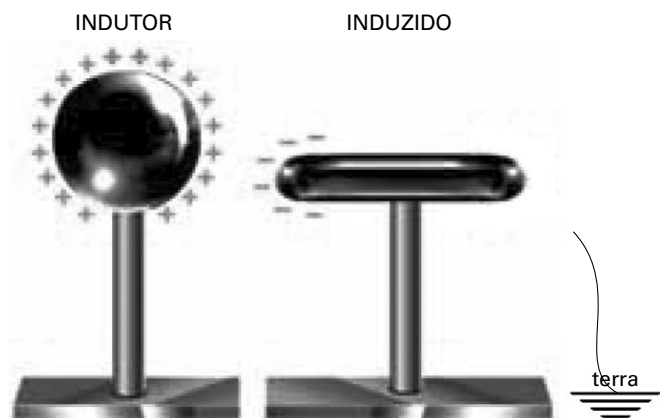
Etapa 1: A presença do indutor provoca a polarização no induzido, que ainda possui carga total nula.



Etapa 2: Na presença do indutor, liga-se o induzido à terra. Elétrons provenientes da terra deslocam-se para o induzido.



Etapa 3: Na presença do indutor, desconecta-se o induzido da terra.



Etapa 4: Pode-se afastar o indutor. Excesso de elétrons torna o induzido com carga negativa.

INDUZIDO



Observando essas etapas, conclui-se que as afirmações I e III não são corretas.

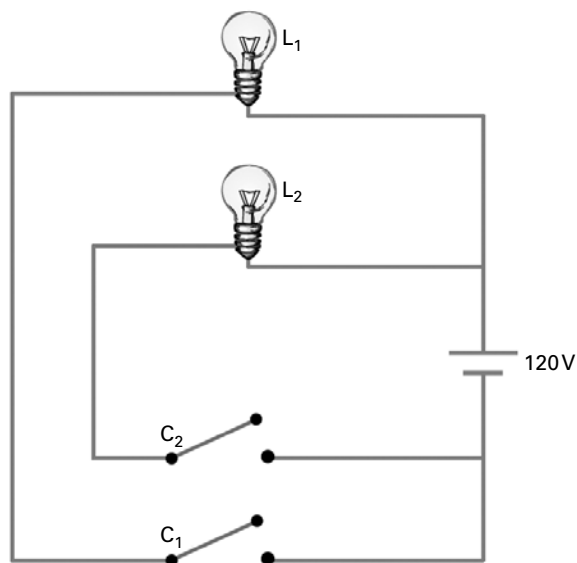
Resposta: D

Questão 83

Para iluminar determinado ambiente, o circuito a seguir foi montado com duas lâmpadas L_1 e L_2 , de valores nominais (120V — 100W) e (120V — 60W), respectivamente, com duas chaves interruptoras C_1 e C_2 , ambas de resistência desprezível, e com fios de ligação ideais. O circuito é alimentado por uma diferença de potencial constante de 120V.

Com a chave C_1 fechada e C_2 aberta, o circuito dissipa 100W. Com a chave C_1 aberta e C_2 fechada, dissipa 60W. Se as duas chaves forem fechadas simultaneamente, o circuito dissipará, em W, uma potência igual a

- A) 320.
- B) 160.
- C) 120.
- D) 80.
- E) 40.



Resolução

Pela representação gráfica fornecida e pelo enunciado, observa-se que as lâmpadas estão associadas em paralelo.

Dessa forma, com a chave fechada, cada uma delas estará submetida a uma tensão de 120V.

De acordo com os valores nominais fornecidos no enunciado, a lâmpada L_1 dissipará 100W, e a lâmpada L_2 , 60W.

Assim, com as duas chaves fechadas, o circuito dissipará 160W.

Resposta: B

Questão 84

O mercado automotivo na América Latina crescerá, no máximo, 2% em 2012. A estimativa é que, após esse período, ele voltará a expandir-se mais rapidamente, o que permitirá um crescimento médio de 5% nos próximos cinco anos.

A afirmação foi feita pelo presidente da GM na América do Sul. Suas estimativas para as vendas, especificamente da GM na América Latina, são de 1,1 milhão de unidades em 2012 e de chegar a 1,4 milhão de veículos por ano até 2015.

(<http://economia.estadao.com.br>, 06.10.2011. Adaptado.)

A estimativa de que as vendas da GM, na América Latina, chegarão a 1,4 milhão de unidades no ano de 2015 pode ser considerada

- A) otimista, pois para isto a taxa média de crescimento anual das vendas para o período deveria ser maior que 5%.
- B) tímida, pois para isto a taxa média de crescimento anual das vendas para o período deveria ser menor que 5%.
- C) correta, pois para isto a taxa média de crescimento anual das vendas para o período deveria ser igual a 5%.
- D) realista, pois para isto a taxa média de crescimento anual das vendas para o período deveria ser menor ou igual a 5%.
- E) não matematicamente verificável, pois não são fornecidos dados suficientes para isto.

Resolução

Seja V_n o número de unidades vendidas no ano n e considerando uma taxa de crescimento de 5% ao ano, temos $V_{15} = V_{12} \cdot 1,05^3$. (*)

$$1,05^2 = 1,1025$$

$$1,05^3 = 1,157625$$

Dado que $V_{12} = 1,1 \cdot 10^6$, temos que (*):

$$V_{15} = 1,1 \cdot 10^6 \cdot 1,157625$$

$$V_{15} < 1,1 \cdot 10^6 \cdot 1,2$$

$$V_{15} < 1,32 \cdot 10^6$$

Logo, V_{15} é menor que 1,4 milhão e, portanto, a taxa média de crescimento anual deveria ser maior que 5%.

Resposta: A

Questão 85

No conjunto \mathbb{R} dos números reais, o conjunto solução S da inequação modular $|x| \cdot |x - 5| \geq 6$ é:

A) $S = \{x \in \mathbb{R} / -1 \leq x \leq 6\}$.

D) $S = \{x \in \mathbb{R} / x \leq 2 \text{ ou } x \geq 3\}$.

B) $S = \{x \in \mathbb{R} / x \leq -1 \text{ ou } 2 \leq x \leq 3\}$.

E) $S = \mathbb{R}$.

C) $S = \{x \in \mathbb{R} / x \leq -1 \text{ ou } 2 \leq x \leq 3 \text{ ou } x \geq 6\}$.

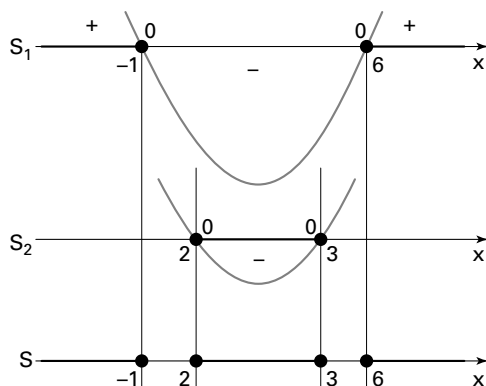
Resolução

Como o produto dos módulos é igual ao módulo do produto, temos $|x(x - 5)| \geq 6$, ou seja, $|x^2 - 5x| \geq 6$.

Devemos ter:

$$x^2 - 5x \geq 6 \text{ ou } x^2 - 5x \leq -6$$

$$x^2 - 5x - 6 \geq 0 \text{ ou } x^2 - 5x + 6 \leq 0$$



Conjunto solução de $x^2 - 5x - 6 \geq 0$: $S_1 = \{x \in \mathbb{R} / x \leq -1 \text{ ou } x \geq 6\}$

Conjunto solução de $x^2 - 5x + 6 \leq 0$: $S_2 = \{x \in \mathbb{R} / 2 \leq x \leq 3\}$

Seja S o conjunto solução, temos $S = S_1 \cup S_2$ e, portanto,

$$S = \{x \in \mathbb{R} / x \leq -1 \text{ ou } 2 \leq x \leq 3 \text{ ou } x \geq 6\}$$

Resposta: C

Questão 86

Dada a matriz $A = \begin{bmatrix} -2 & 3 \\ -1 & 2 \end{bmatrix}$ e definindo-se $A^0 = I$, $A^1 = A$ e $A^k = A \cdot A \cdot A \cdot \dots \cdot A$, com k fatores, onde I é uma matriz identidade de ordem 2, $k \in \mathbb{N}$ e $k \geq 2$, a matriz A^{15} será dada por:

- A) I .
- B) A .
- C) A^2 .
- D) A^3 .
- E) A^4 .

Resolução

$$A = \begin{bmatrix} -2 & 3 \\ -1 & 2 \end{bmatrix}$$

$$A^2 = \begin{bmatrix} -2 & 3 \\ -1 & 2 \end{bmatrix} \cdot \begin{bmatrix} -2 & 3 \\ -1 & 2 \end{bmatrix} = \begin{bmatrix} 1 & 0 \\ 0 & 1 \end{bmatrix} \quad \therefore A^2 = I$$

$$A^{15} = A \cdot A^{14} = A \cdot (A^2)^7 = A \cdot I^7 = A \cdot I = A$$

É importante observar que, para todo número natural ímpar n , $A^n = A$.

Assim, $A^{15} = A$ e $A^3 = A$ implica $A^{15} = A^3$.

Assim, $A^{15} = A^3 = A$

Do exposto, conclui-se que **B** e **D** são corretas.

Resposta: B e D

Questão 87

Diferentes tipos de nanomateriais são descobertos a cada dia, viabilizando produtos mais eficientes, leves, adequados e, principalmente, de baixo custo.

São considerados nanomateriais aqueles cujas dimensões variam entre 1 e 100 nanômetros (nm), sendo que 1 nm equivale a 10^{-9} m, ou seja, um bilionésimo de metro.

Uma das características dos nanomateriais refere-se à relação entre seu volume e sua área superficial total.

Por exemplo, em uma esfera maciça de 1 cm de raio, a área superficial e o volume valem $4 \cdot \pi \text{ cm}^2$ e $(4/3) \cdot \pi \text{ cm}^3$, respectivamente. O conjunto de nanoesferas de 1 nm de raio, que possui o mesmo volume da esfera dada, tem a soma de suas áreas superficiais

- A) 10 vezes maior que a da esfera.
- B) 10^3 vezes maior que a da esfera.
- C) 10^5 vezes maior que a da esfera.
- D) 10^7 vezes maior que a da esfera.
- E) 10^9 vezes maior que a da esfera.

Resolução

Raio de uma nanoesfera: $1 \text{ nm} = 10^{-9} \text{ m} = 10^{-7} \text{ cm}$.

Como o volume de uma esfera de raio r é dado por $\frac{4}{3}\pi r^3$, o volume, em cm^3 , da nanoesfera é

$$\frac{4}{3}\pi(10^{-7})^3 = \frac{4}{3}\pi 10^{-21}.$$

Se o conjunto descrito no enunciado possui n nanoesferas, então $n \cdot \frac{4}{3}\pi 10^{-21} = \frac{4}{3} \cdot \pi$, ou seja, $n = 10^{21}$.

Como a área de uma esfera de raio r é dado por $4\pi \cdot r^2$, a área, em cm^2 , de uma nanoesfera é $4\pi(10^{-7})^2$, ou seja, $4\pi \cdot 10^{-14}$.

A soma das áreas superficiais das n nanoesferas é $n \cdot 4\pi \cdot 10^{-14} = 10^{21} \cdot 4\pi \cdot 10^{-14} = 4\pi 10^7$.


Como a área da esfera descrita é 4π , podemos concluir que a soma das áreas superficiais das n nanoesferas é 10^7 vezes a área superficial da esfera.

Resposta: D

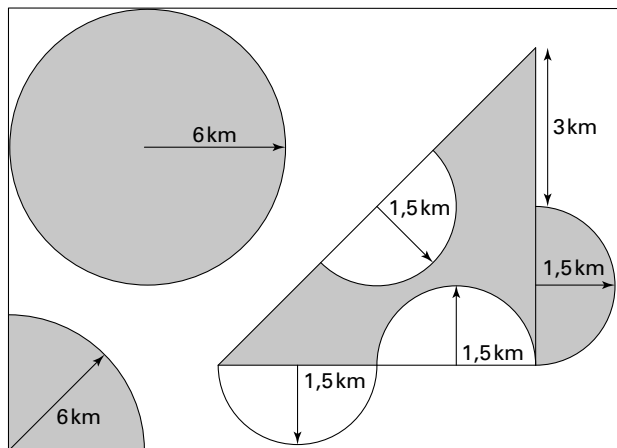
Questão 88

No vazamento de petróleo da empresa americana Chevron do último dia 7 de novembro, na bacia de Campos/RJ, a mancha de óleo na superfície do mar assumiu grandes dimensões e teve seu pico de área entre os dias 12 e 14 daquele mês. O vazamento levou dias para ser contido, pois o petróleo continuava a escapar por fissuras, como mostrado na foto.

A figura mostra, de forma hipotética e aproximada, em cinza, as áreas da mancha de óleo na superfície do mar.



(<http://loglobo.globo.com>)



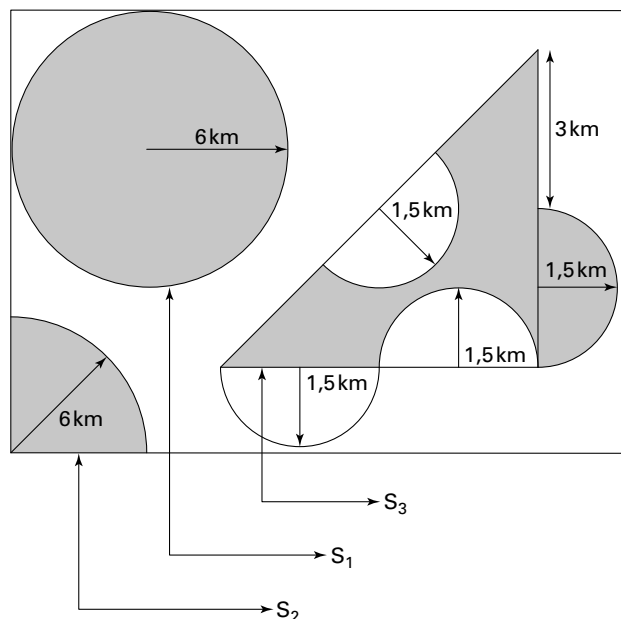
■ manchas de óleo

□ água do mar

Dados $1 \text{ dm}^3 = 1 \text{ L}$ e $\pi \approx 3$ e sabendo que a altura média da lâmina de óleo sobre as águas era de $0,003 \text{ mm}$ e que 1 barril de petróleo cru contém 160 litros de óleo, o número aproximado de barris que vazaram no incidente foi

- A) 2360.
- B) 2860.
- C) 2960.
- D) 3320.
- E) 5250.

Resolução



O círculo de raio r tem área igual a πr^2 .

$$S_1 = \pi \cdot 6^2 \quad \therefore \quad S_1 = 36\pi = 108 \quad (\pi \approx 3)$$

$$S_2 = \frac{1}{4} \cdot S_1 \quad \therefore \quad S_2 = 9\pi = 27$$

$S_3 =$ área do triângulo retângulo de catetos medindo 6km – 2 · área do semicírculo de raio 1,5km + 1 · área do semicírculo de raio 1,5km.

$$S_3 = \frac{1}{2} \cdot 6 \cdot 6 - 2 \cdot \frac{1}{2} \cdot \pi \cdot 1,5^2 + 1 \cdot \frac{1}{2} \cdot \pi \cdot 1,5^2$$

$$S_3 = \frac{1}{2} \cdot 6 \cdot 6 - \frac{1}{2} \cdot \pi \cdot 1,5^2$$

Com $\pi \approx 3$, temos $S_3 = 18 - 1,5 \cdot 2,25 = 14,625$.

Sendo $S = S_1 + S_2 + S_3$, temos $S = 108 + 27 + 14,625 = 149,625$ (km²).

1km = 10⁴dm; 1km² = 10⁸dm² e 0,003mm = 3 · 10⁻³mm = 3 · 10⁻⁵dm.

Volume, em litros, da camada de óleo: $V = 149,625 \cdot 10^8 \cdot 3 \cdot 10^{-5} = 448875$.

Como cada barril equivale a 160 litros, o número de barris é dado por $\frac{448875}{160} = 2805$.

Resposta: B

▶ Questão 89

O artigo Uma estrada, muitas florestas relata parte do trabalho de reflorestamento necessário após a construção do trecho sul do Rodoanel da cidade de São Paulo.

O engenheiro agrônomo Maycon de Oliveira mostra uma das árvores, um fumo-bravo, que ele e sua equipe plantaram em novembro de 2009. Nesse tempo, a árvore cresceu — está com quase 2,5 metros —, floresceu, frutificou e lançou sementes que germinaram e formaram descendentes [...] perto da árvore principal.

O fumo-bravo [...] é uma espécie de árvore pioneira, que cresce rapidamente, fazendo sombra para as espécies de árvores de crescimento mais lento, mas de vida mais longa.

(Pesquisa FAPESP, janeiro de 2012. Adaptado.)

espécie da árvore fumo-bravo



(w3.ufsm.br/herbarioflorestal)

Considerando que a referida árvore foi plantada em 1^o de novembro de 2009 com uma altura de 1dm e que em 31 de outubro de 2011 sua altura era de 2,5m e admitindo ainda que suas alturas, ao final de cada ano de plantio, nesta fase de crescimento, formem uma progressão geométrica, a razão deste crescimento, no período de dois anos, foi de

- A) 0,5.
- B) $5 \cdot 10^{-1/2}$.
- C) 5.
- D) $5 \cdot 10^{1/2}$.
- E) 50.

Resolução

Sendo $2,5\text{m} = 25\text{dm}$, considerando os dois anos de crescimento, temos a PG (a_n), dada por $a_1 = 1$ (altura em novembro de 2009) e $a_3 = 25$ (altura em 2011).

Sendo q , $q > 0$, a razão da PG, temos:

$$\begin{aligned}a_3 &= a_1 \cdot q^2 \\ 25 &= 1 \cdot q^2 \\ q &= 5\end{aligned}$$

Resposta: C

Questão 90

Segundo nutricionistas, uma refeição equilibrada, para uma pessoa adulta e saudável, não deve conter mais que 800kcal . A tabela traz algumas opções de pedido, variedades dentro destas opções e o valor energético de cada uma delas.

Opções de pedido	Variedades	Valor energético
sanduíches	completo	491 kcal
	de peixe	362 kcal
	light	295 kcal
acompanhamentos	porção de fritas	206 kcal
	salada	8 kcal
bebidas	refrigerante 300 mL	120 kcal
	refrigerante diet 300 mL	0 kcal
	suco de laranja 300 mL	116 kcal
sobremesas	torta de maçã	198 kcal
	porção de frutas	25 kcal

Escolhendo-se um item de cada opção de pedido, a refeição de maior valor energético, que não exceda o limite de 800kcal , será a composta de:

- A) sanduíche completo, porção de fritas, refrigerante diet 300 mL e porção de frutas.
- B) sanduíche light, porção de fritas, refrigerante 300 mL e porção de frutas.
- C) sanduíche light, porção de fritas, suco de laranja 300 mL e porção de frutas.
- D) sanduíche de peixe, porção de fritas, suco de laranja 300 mL e porção de frutas.
- E) sanduíche de peixe, porção de fritas, refrigerante diet 300 mL e torta de maçã.

Resolução

Vamos analisar as afirmações de cada uma das alternativas.

- A) sanduíche completo, porção de fritas, refrigerante diet 300 mL e porção de frutas.
($491 + 206 + 0 + 25 = 722\text{kcal}$)
- B) sanduíche light, porção de fritas, refrigerante 300 mL e porção de frutas.
($295 + 206 + 120 + 25 = 646\text{kcal}$)
- C) sanduíche light, porção de fritas, suco de laranja 300 mL e porção de frutas.
($295 + 206 + 116 + 25 = 642\text{kcal}$)
- D) sanduíche de peixe, porção de fritas, suco de laranja 300 mL e porção de frutas.
($362 + 206 + 116 + 25 = 709\text{kcal}$)
- E) sanduíche de peixe, porção de fritas, refrigerante diet 300 mL e torta de maçã.
($362 + 206 + 0 + 198 = 766\text{kcal}$)

Logo, a refeição de maior valor energético, que não excede o limite de 800kcal , é a apresentada na alternativa E.

Resposta: E

COMENTÁRIOS

Filosofia e Sociologia

Seis questões podem ser classificadas como de Sociologia e Filosofia. Todas elas utilizaram textos relativamente extensos, cuja leitura foi fundamental para a resolução. As questões abordaram temas atuais, de forma rigorosa, exigindo dos candidatos, não apenas a leitura do texto, mas também uma razoável bagagem de informações sobre assuntos da atualidade.

Geografia

A prova da UNESP 1ª fase apresentou 12 questões de Geografia, sendo 7 questões de Brasil e 5 questões de Geral. A prova foi bastante abrangente em relação aos assuntos abordados. As formulações foram claras e precisas, além de ricas em recursos visuais (como mapas, gráficos, tabelas e charges). De forma geral, a prova apresentou um nível médio, atingindo, portanto, sua finalidade: verificar o nível de conhecimento do candidato, sobre o conteúdo programático proposto pela banca examinadora no campo de estudo da Geografia.

História

Generalizou-se nos últimos anos a prática de formular questões do tipo teste a partir do emprego de textos. Dessa forma, a leitura e entendimento do texto tornou-se parte integrante da resolução da questão. Tal medida louvável teve como efeito colateral o aumento do tempo necessário para a resolução de cada questão. Nesse sentido, a prova da história da Unesp, com seus 87 testes, foi feliz ao apresentar questões diretas (por exemplo: 32, 37 e 42), um único texto para duas questões (por exemplo: 34/35 e 40/41) e textos curtos (por exemplo: 31 e 33).

De forma geral, a prova foi bem elaborada e adequada à sua finalidade.

Biologia

Prova equilibrada, com questões bem propostas, sem ambiguidades, e que cobriu os temas essenciais do programa de Biologia do Ensino Médio.

Física

As sete questões de Física dessa prova abordaram situações contextualizadas e relevantes da programação do Ensino Médio. Além disso, notou-se a preocupação da banca em distribuir os principais tópicos da programação pelas questões. A elaboração de questões com enunciados bem formulados, em uma linguagem concisa e precisa, é um ponto positivo a ser destacado nessa prova. Salienta-se que, para um exame de conhecimentos gerais, o grau de dificuldade nos pareceu bastante adequado.

Química

Foi uma boa prova, que cobrou assuntos importantes do Ensino Médio.

Matemática

Com sete questões interessantes, a prova não foi abrangente, mas foi boa. Foram explorados tópicos importantes do programa. Uma nota importante: na questão 86, sobre multiplicação de matrizes, há duas alternativas corretas (B e D).

Português

A prova consta de 20 questões extraídas de quatro textos de gêneros diferentes: um tipo de crônica linguística, um poema, um artigo assinado de revista e um trecho de reportagem jornalística.

Seguindo uma tendência contemporânea, as questões de interpretação de significados predominaram francamente sobre as de conhecimento gramatical propriamente dito; mesmo estas (poucas) eram formuladas com base em fragmentos extraídos dos textos de base.

As questões de interpretação cobraram a apreensão do sentido de palavras em expressões no seu contexto de ocorrência, identificação de recursos responsáveis pela produção de efeitos de sentido e intervenção em certas frases do texto tanto para corrigi-las quanto para redigi-las por meio de outras estruturas.

Não se pode dizer que tenha sido uma prova inovadora, mas foi competente.

Inglês

A prova de Inglês apresentou um texto e uma canção a partir dos quais foram elaboradas 7 questões de compreensão, 2 de termos referenciais (questões 24 e 25) e uma de gramática (questão 30).

Prova bem feita, com uma ressalva em relação à questão 30 (ver comentário na questão).